

**2023 年 4 月 2 日湖北省事业单位联考 B 类  
《职业能力倾向测验》试题**

永岸公考整理

2023年4月2日湖北省事业单位联考B类《职业能力倾向测验》试题

一、常识判断。根据题目要求，在四个选项中选出一个最恰当的答案。

1、党中央认为，必须坚持不懈把解决好“三农”问题作为全党工作重中之重，举全党全社会之力全面推进乡村振兴，加快农业农村现代化。对此，下列各地做法有助于推动乡村产业高质量发展的是（ ）。

①甲地加快完善县乡村电子商务和快递物流配送体系，建设县域集采集配中心

②乙地完善农产品流通骨干网络，改造提升产地、集散地、销地批发市场，布局建设一批城郊大仓基地

③丙地深入实施“数商兴农”和“互联网+”农产品出村进城工程，鼓励发展农产品电商直采、定制生产等模式

④丁地引导技术密集型产业向中西部地区、向县域梯度转移，支持大中城市在周边县城布局关联产业和配套企业

A、①②④

B、①③④

C、①②③

D、②③④

2、中国式现代化，是中国共产党领导的社会主义现代化，既有各国现代化的共同特征，更有基于自己国情的中国特色。下列关于中国式现代化的说法中，有误的一项是（ ）。

A、中国式现代化在进程上保持整体一贯性和延续性

B、中国式现代化是全体人民同步富裕的现代化

C、中国式现代化创造经济快速发展和社会长期稳定两大奇迹

D、中国式现代化是人与自然和谐共生的现代化

3、税费优惠政策在增加就业、鼓励研发、促进投资、提升价值等方面有积极作用。2022年，全国新增减税降费及退税缓税缓费超4.2万亿元。下列有关我国税费政策的说法正确的有（ ）个。

①阶段性措施和制度性安排相结合

②既有税率式优惠，又有税基式优惠

③着力点之一是解决市场失灵，用税费优惠政策去弥补负外部性所产生的成本

A、0

B、1

C、2

D、3

4、2023年2月，中共中央、国务院印发了《数字中国建设整体布局规划》。下列选项与文件精神相符的是（ ）。

- ①到2035年，基本形成横向打通、纵向贯通、协调有力的一体化推进格局
- ②要打造自信繁荣的数字文化，大力发展网络文化，加强优质网络文化产品供给
- ③要全面提升数字中国建设的整体性、系统性、协同性，促进数字经济和实体经济深度融合
- ④要强化数字技术创新体系和数字安全屏障“两大能力”，优化数字化发展国内国际“两个环境”

A、①②③

B、②③④

C、①③④

D、①②③

5、下列事例对经济学概念的阐释，正确的有（ ）个。

①边际成本：小明同时面临着会计、审计助理、出纳三个职位选择，最后小明选择了审计助理，已知会计月薪4500元，审计助理月薪5500元，出纳月薪6000元，那么小明选择审计助理的边际成本就是月薪6000元

②机会成本：投资人花10万元买一辆车，付款后，这10万元就属于机会成本，投资人只享有汽车的所有权，并没有10万元的控制权

③沉没成本：生产第一架飞机的成本很高，随着工艺进步，生产第101架飞机的成本就低得很多，而生产10000架飞机的成本就更低了

A、0

B、1

C、2

D、3

6、春天南风较大，“倒南风”会使排烟道回灌造成室内有毒气体浓度过大，极易造成中毒。为此，甲市融媒体中心拟开设“应急科普”专栏，普及应急安全常识。下列可作为其科普内容的包括（ ）。

①煤油、木炭等含碳的燃料在缺氧而不能充分燃烧时均会产生一氧化碳，从而导致中毒

②热水器应与浴室隔开，使用热水器时，热水器安装房间及浴室均应保持通风

③一氧化碳可溶于水，在室内使用煤炉时在旁边放一盆水可有效预防中毒

④使用煤炉前要检查炉灶和烟筒是否完好畅通，接口处是否密封

- A、①②④
- B、①②③
- C、②③④
- D、①②③④

7、下列有关我国历史上著名改革的表述，不符合史实的是（ ）。

- A、春秋时期，李悝提出“相地而衰征”，承认土地私有，加剧了奴隶制度的瓦解
- B、战国时期，商鞅废井田、开阡陌，实行县制，奖励耕织和军功，实行连坐之法
- C、南北朝时期，孝文帝推行的汉化改革缓和了阶级矛盾，对经济的恢复和发展产生了积极作用
- D、北宋时期，王安石变法以发展生产、富国强兵、挽救宋朝政治危机为目的，以“理财”“整军”为中心

8、依海富国，以海强国，建设海洋强国，创新发展的“蓝色中国梦”正越来越近。下列是在实现“蓝色中国梦”过程中制造的“大国重器”是（ ）。

- ①奋斗者号
- ②蛟龙号
- ③深海勇士号
- ④墨子号

- A、②③
- B、①②③
- C、②③④
- D、①③④

9、下列历史事件按发生的先后排序，正确的是（ ）。

- ①中国绝大部分地区基本完成了对生产资料私有制的社会主义改造
- ②中国人民志愿军跨过鸭绿江，开赴前线，同朝鲜人民军并肩作战
- ③毛泽东偕同周恩来、王若飞抵达重庆，同国民党当局进行谈判，国共双方签署“双十协定”
- ④毛泽东率领秋收起义部队到达罗霄山脉中段的井冈山，创立了党领导下的第一个农村革命根据地

- A、③④①②
- B、③④②①
- C、④②③①
- D、④③②①

10、下列农业地域类型的生产特点及其地域分布对应错误的是（ ）。

- A、水稻种植业—小农经营、商品率低、机械化水平低—东亚、东南亚、南亚季风区
- B、大牧场放牧业—生产规模大、商品率高、专业化程度高—美国、澳大利亚、新西兰
- C、商品谷物农业—商品率高、机械化程度高、生产规模大—美国、加拿大、阿根廷
- D、混合农业—规模小、机械化水平低、灵活性和市场适应性较强—欧洲、北美、南非

11、在五代南唐、西蜀建立画院的基础上，宋代继续设立翰林图画院，以培养宫廷需要的绘画人才。

画院集中了社会上的优秀画家，下列绘画作品与作者对应正确的是（ ）。

- A、《早春图》—李唐
- B、《踏歌图》—马远
- C、《千里江山图》—郭熙
- D、《女史箴图》—王希孟

12、以下文学常识有误的是（ ）。

A、王昌龄的《出塞》：“秦时明月汉时关，万里长征人未还。但使龙城飞将在，不教胡马度阴山。”

表现了诗人希望早日平息边塞战事，使人民过上安定的生活

B、李白的《秋浦歌》：“白发三千丈，缘愁似个长。不知明镜里，何处得秋霜。”

描写了白发有三千丈那样长，夸张中带有奇想，给人深刻印象

C、杜甫的《闻官军收河南河北》：“白日放歌须纵酒，青春作伴好还乡。”

表现了诗人对胜利与和平的渴望

D、白居易的《春夜喜雨》：“好雨知时节，当春乃发生。随风潜入夜，润物细无声。”

描写了春雨给人们带来的无限喜悦

13、下列有关古代书籍的代称，说法错误的是（ ）。

A、“青简”：古代没有纸时，把字写在竹简上，用皮绳把竹简编缀起来。故称书籍为“青简”

B、“芸帙”：人们为了防止虫对书的咬噬，常在书里放“芸香”，故称书籍为“芸帙”

C、“缥緜”：“缥”是浅黄色棉织物，“緜”是青白色的丝织物，古人常用这两种织物作书籍的封皮、封套，故称书籍为“缥緜”

D、“坟典”：“三坟五典”有时用来泛指古代典籍，故称书籍为“坟典”

14、“蜡树银山炫皎光，朔风独啸静三江。老农犹喜高天雪，况有来年麦果香”，这首诗描写了一个节气，对此，下列说法正确的是（ ）。

A、这个节气是小雪

- B、是全年二十四节气中的最后一个节气
- C、这一天北半球夜最长，昼最短
- D、该节气代表着冬季的开始，北方大部分地区将出现雨雪降温天气

15、每个时代，人们的休闲方式有所差异。古人的休闲方式非常多元化，下列诗句与所描述的活动对应不正确的是（ ）。

- A、连云列战格，飞鸟不能逾——狩猎
- B、为我一挥手，如听万壑松——弹琴
- C、身轻裙薄易生力，双手向空如鸟翼——荡秋千
- D、棹影斡波飞万剑，鼓声劈浪鸣千雷——赛龙舟

16、王某饮酒后从小区内驾驶机动车行至小区东门，发现交警大队正在东门附近查酒驾，于是掉头驶回小区。执法人员发现情况后立即对其进行追赶并将王某现场查获，经测试。王某属于饮酒后驾驶机动车。当日，交警大队决定对王某罚款 2000 元，暂扣机动车驾驶证 6 个月。下列关于该案例的说法中，正确的是（ ）。

- A、王某酒后只是在小区内驾车，小区内的道路均不属于开放道路，王某不应受到处罚
- B、交警大队只可对王某进行罚款，不应该暂扣其机动车驾驶证
- C、王某若不服处罚决定，可以向人民政府提出行政复议
- D、在王某被暂扣机动车驾驶证期间，该车辆不得上路行驶

17、下列情形中，符合抢劫罪加重情节的是（ ）。

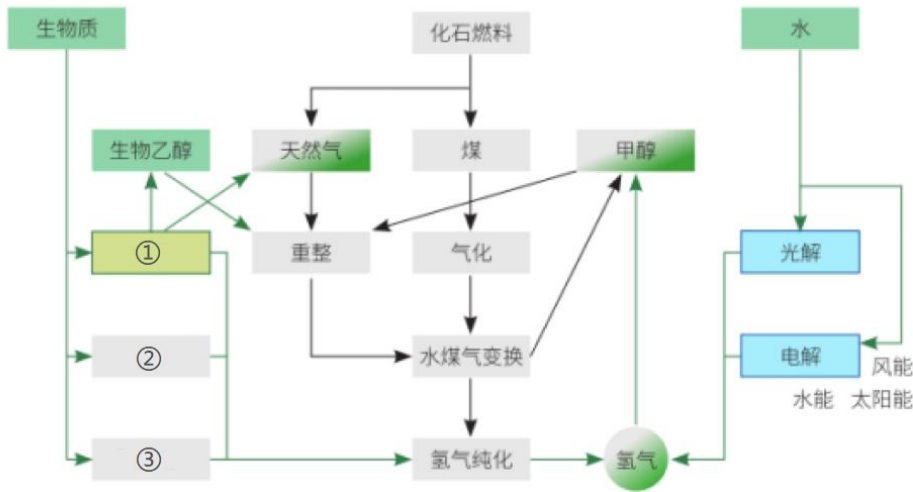
- A、深夜的公交上，见其他乘客困意十足，便对坐在最后一排的乘客实施了抢劫
- B、乙在室外路边的 ATM 机上取款时，机器出现故障，乙强行砸坏了机器，并从中按自己余额数值取走了 600 元现金
- C、丙对某五保户实施了抢劫，但丙不知物资属于政府发放给五保户的节日福利品
- D、丁去看望在家养病的同事，期间丁见同事佩戴着首饰，临时起意对同事实施了抢动

18、1992 年中国载人航天工程正式立项实施，经过 30 年几代航天人的持续奋斗，2022 年圆满完成“三步走”战略任务，全面建成中国空间站，目前已正式进入空间站应用与发展阶段，下列有关我国取得的航天成就说法错误的是（ ）。

- A、载人航天精神被第一批纳入中国共产党人精神谱系
- B、独立自主完成中国空间站从设计、制造到测试的全过程
- C、积极打造构建外空领域人类命运共同体，积极推动“一带一路”空间信息走廊建设

D、实现“嫦娥”奔月，“祝融”探火，“表和”“羲和”逐日，“天宫”行星探测

19、生物乙醇重整制氢是氢能绿色供应的重要途径，其采用可再生能源为原料，运用成熟、高效的化工工艺，积极助力碳达峰、碳中和目标的实现。下列工艺流程中，①②③处可分别填入（ ）。



- A、发酵、气化、裂/热解
- B、高温、冷却、裂解
- C、电解、催化、热循环
- D、放射、催化、冷却

20、消毒是阻断病毒传播的有效方式之一，下列有关说法错误的是（ ）。

- A、日常生活中，可以采用涂抹酒精的方式对物体表面进行消毒
- B、84 消毒液是常见的含氯消毒液产品，以氯化钠为主要成分
- C、紫外线消毒灯如果使用不当，可能会增加患眼部疾病和皮肤癌的风险
- D、一定浓度的过氧化氢可用于不耐热的塑料制品、餐具等的消毒

二、言语理解与表达。本部分包括表达与理解两方面的内容。请根据题目要求，在四个选项中选出一个最恰当的答案。

21、建设新时代中国史学，就是要在\_\_\_\_\_的宏阔视野下，全面考察历史之“变”，深入探究历史之“理”，重新激活中华文明对人类历史走向和命运的观照，在国际史学思潮的激荡中发出新时代中国史学的正声。

填入画横线部分最恰当的一项是（ ）。

- A、万众瞩目
- B、天马行空

C、思接千载

D、瞬息万变

22、由于目前不少儿童手表使用的操作系统过于老旧，没有任何权限管理要求，恶意程序可以在儿童和家长不知情的情况下轻松\_\_\_\_\_，并获取孩子的位置、人脸图像，录音等隐私信息，进而恶意收集、买卖和使用，碰触儿童隐私保护红线，直接与国家出台的有关标准相悖，同时也是对落实《中华人民共和国个人信息保护法》关于儿童信息保护规定的\_\_\_\_\_。

依次填入画横线部分最恰当的一项是（ ）。

A、入侵 轻视

B、繁衍 阻挠

C、攻击 挑衅

D、植入 掣肘

23、我们知道，自孔子提出“为己之学”的儒家为学宗旨后，后世儒者无不以此为\_\_\_\_\_。然而，令人遗憾的是，大多学人在对儒家思想范畴和演变历史的梳理中，就概念说概念。把儒学做成了客观“真理”，不知不觉坠入知识之学的\_\_\_\_\_，忘记了儒学乃切己，切身之学。这无疑是一个重要的学思转向。

依次填入画横线部分最恰当的一项是（ ）。

A、龃龉 谷底

B、圭臬 旋涡

C、耆宿 深渊

D、准绳 泥泞

24、企业经营总是有风险，这一点消费者并非不能理解，可是只顾自身一路野蛮生长，完全把无辜的消费者当\_\_\_\_\_，则\_\_\_\_\_了企业发展的底线。

依次填入画横线部分最恰当的一项是（ ）。

A、敲门砖 挑战

B、摇钱树 超越

C、绊脚石 僭越

D、垫脚石 逾越

25、在现有技术条件下拓展农业生产活动空间，丰富农业生产活动内容，使得有限的土地\_\_\_\_\_更多的劳动力，一方面将我国人多变为优势，能够对农业生产进行精细化的操作和密集性的经营，另一方



面能够更好地谋求单产提高和产品优质化，促进农产品多增产和多元化提供，是\_\_\_\_\_有效解决冗余劳动力和农产品短缺问题的农业经营方式。

依次填入画横线部分最恰当的一项是（ ）。

- A、承载 一本万利
- B、吸纳 一举两得
- C、汲取 一箭双雕
- D、承受 一蹴而就

26、在 20 世纪艺术的喧嚣中，当其他艺术家纷纷前往巴黎的时候，莫兰迪静静地守在自己的工作室里，用智慧和感觉创造自己的艺术形象，\_\_\_\_\_地从最简单的器皿中\_\_\_\_\_艺术之“道”。

依次填入画横线部分最恰当的一项是（ ）。

- A、孜孜不倦 寻找
- B、坚韧不拔 发掘
- C、按部就班 探索
- D、锱铢必较 追求

27、虽然社会管理可以借鉴国外发达国家的先进经验，但特定国情中的社会管理，不是单的取其精华、去其糟粕，而必然是国际化与本土化经过深度\_\_\_\_\_后的产物。尤其是中国转型期的复杂情况，既面临着后发优势的机遇，也遭遇着“迟发展效应”的掣肘；因此社会管理既缺“引进来”，更乏“本土化”，探索社会管理的中国式创新之道，是转型期社会治理\_\_\_\_\_的焦点话题。

依次填入画横线部分最恰当的一项是（ ）。

- A、磨合 方兴未艾
- B、契合 如日中天
- C、锤炼 欣欣向荣
- D、研磨 盛极一时

28、社会信用体系建设是建设诚信中国的重要举措。对于当前社会信用体系建设过程中出现的概念混淆不清甚至误用的情况，亟需进一步\_\_\_\_\_重要概念的内涵和外延。尤其是在我国存在经济信用、公共信用两套信用机制的情况下，\_\_\_\_\_两者之间的关系，消除不必要的误会和分歧，\_\_\_\_\_更多社会共识，有助于增进民众对社会信用体系建设的理解和信任。

依次填入画横线部分最恰当的一项是（ ）。

- A、辨析 梳理 汇集

B、肃清 理清 汇聚

C、廓清 厘清 凝聚

D、阐明 澄清 聚焦

29、弗洛伊德\_\_\_\_\_的心理疗法，如同在这个世界的坚壳上撬开了一条缝，让\_\_\_\_\_的梦境像一缕烟，袅袅而出。在弗洛伊德看来，梦是那些暗藏心底的欲望，试图忘却而无法忘却的人生挫折，这些生命不可承受之重，在妥协中被无休止地碾压、扭曲，难以释放，便\_\_\_\_\_在梦里。

依次填入画横线部分最恰当的一项是（ ）。

A、别具一格 冲动 发泄

B、蹈常习故 流动 泄露

C、异军突起 舞动 倾泻

D、独树一帜 涌动 宣泄

30、长江是中国最大的河流，深沉而宏伟，\_\_\_\_\_了一代又一代文化巨人。长江也是一条具有永不衰竭的航运能力的黄金水道，因其一水之便，一代代诗人和作家行走于上，以诗词和华章沿途点亮这道大江，让它\_\_\_\_\_出万古不灭的奇光异彩。浩浩的江水流的是诗词和散文，流淌的是文学，流淌的是\_\_\_\_\_的中华文脉。

依次填入画横线部分最恰当的一项是（ ）。

A、滋润 散发 挥之不去

B、养育 迸发 络绎不绝

C、见证 发散 格古通今

D、哺育 放射 绵绵不绝

31、中国的举国体制叠加了秦汉两千年以来的大传统和新中国成立七十多年以来的小传统，其“改制优势”有目共睹。改革开放的历史功绩就在于通过重建市场、再造社会，解放了亿万人民的积极性和创造力。中国未来的健康发展有赖于国家、市场与社会间彼此互补，各尽其长。要想形成这样的关系，需要各方共同努力，尤其需要国家社会进行帮扶。材料中“这样的关系”指代的是（ ）。

A、改革开放对于市场的重建、对于社会的再造

B、秦汉以来的大传统和中国成立以来小传统相叠加

C、国家对社会进行帮扶

D、国家、市场与社会间彼此互补、各尽其长

32、互联网时代，融媒体、自媒体等在汉字使用中发挥着举足轻重的作用，而个别媒体在质量审查方

面较为欠缺，导致各种拙劣字体、错误字形、恶劣字义呈现出无序传播和无章使用的状态，成了汉字不规范使用的“发酵池”“催化剂”。对此，媒体要做好自我规约。自觉遵从汉字使用规范，并充分发挥媒体纠正不良现象的作用，创新手段和方式，不能对不规范汉字的现象熟视无睹，要坚决制止和消除汉字使用的不规范现象，正确引导汉字使用走向规范。

对这段文字概括最准确的一项是（ ）。

- A、智能化时代对汉字的使用而言是一柄双刃剑
- B、使用规范汉字，媒体要尽责
- C、媒体是汉字使用的“风向标”，是规范汉字使用的引领者
- D、汉字是中华民族文化自信的重要基石

33、编辑并非被动地坐等稿件，也不局限于案头的加工优化，而是要对“编辑什么”有清晰的判断和主动的规划，对“不编什么”有明确的标准，这就需要不断做出选择，选择是编辑工作的重要环节，遴选作者、组织稿源都必须进行价值判断和选择。编辑选择不仅影响作家队伍的构成，还会直接影响作品的品质和风格。编辑谁的作品，编辑什么作品，在选择背后体现的正是编辑的价值标准。编辑是一门发现的艺术，在茫茫人海中发现好作者，在汗牛充栋的稿件中发现好作品，在众声喧哗中发现新的审美元素和新的思想火花，是编辑工作的重要内容。这段文字没有介绍编辑工作的（ ）。

- A、重要环节
- B、主要内容
- C、难易程度
- D、重要意义

34、有记载称，光是乾隆二十一年（1756），乾隆的各处宫殿行宫钟表陈设就多达 286 件，而乾隆四十九年（1784）两广总督与粤海关监督等累计进贡钟表也多达 130 件。据不完全统计，终乾隆一朝，进贡的钟表大约有 2700 件，其中大部分都是英国钟。从平时居住的养心殿，到度假避暑的圆明园、承德避暑山庄，他所到之处几乎必有钟表作为装点。这段文字主要反映了乾隆收藏钟表的（ ）。

- A、数量多
- B、产地繁
- C、款式丰
- D、来源广

35、澳大利亚研究人员呼吁让锻炼成为治疗抑郁症的主要方法，他们开展的一项研究表明，体育锻炼的效果是心理咨询或药物的 1.5 倍。该研究包括 97 篇综述、1039 项试验和 128119 名参与者。相关研究发

表于《英国运动医学杂志》。研究还发现，所有类型的体育活动和锻炼都有益，包括有氧运动，如散步、阻力训练、普拉提和瑜伽等。下列最适合做这段文字标题的是（ ）。

- A、有氧运动，治疗抑郁症的良方
- B、健康生活，经常进行体育锻炼
- C、改善抑郁，锻炼比药物更有力
- D、体育锻炼，有效提高生活品质

36、与聊天系统强大的语言生成能力不匹配的是人工智能对知识的真正掌握程度。大量模棱两可乃至错误的信息混杂在流畅的对话中，反而令其更加难以被发现。在一般性知识极易获取，复杂知识参差不齐的背景下，人类专家的专业判断力和经过思考加工的准确回答更显弥足珍贵。人工智能诸多技术“黑箱”带来的不确定性，终究还需要人类通过专业全局的判断来化解。从这个层面上讲，\_\_\_\_\_。

填入画横线部分的句子，与上文衔接最恰当的一项是（ ）。

- A、语言是人类最重要的思维工具
- B、聊天系统也将引起一波“失业潮”
- C、人工智能的核心在于知识的获取
- D、“自知”的人类永远不可或缺

37、我国灾害思想文化源远流长，上古神话传说中的后羿射日、精卫填海、大禹治水，即包含远古先民与灾害抗争的精神内涵。在积极应对自然灾害的历史过程中，因为受制于天命观，奉行天命禳灾、五行灾异、灾异天谴等极具神秘色彩的灾害观念，灾害文化也表现为各种灾害祈祷和祭祀仪式，以求达到禳灾、祛灾目的。\_\_\_\_\_。灾害文化既能体现出古代社会的国家治理能力，是大国减灾的文化软实力，又是传统社会国家治理能力所孕育出来的特殊文化现象。填入画横线部分的句子，与上下文衔接最恰当的一项是（ ）。

- A、减灾科技属于灾害应对的方法措施，其指导思想则是灾害自然论
- B、但在振弥灾异的表象背后，则是集腋成裘、众志成城的精神力量
- C、数千年来中华民族与各种各样的自然灾害不断抗争中历经磨难
- D、我国是一个以农为本的古国，减灾科技主要围绕农业生产来发展

38、①两国的汉文类文献随着古代中日两国的互通而不断流动，共同繁荣了同中有异、异中有同的东亚文化圈

②类书是我国古代大型资料性书籍，在采摭群书的基础上，根据对象文本的内容或性质，随类相从并

加以编排

- ③作为文明载体和文化象征，数量庞大的汉籍曾源源不断地传入日本
- ④类书以工具性、集藏性和派生性等特点，成为汉籍东传的耀眼之星
- ⑤经由接受与发展，日本借鉴中国类书的编纂形式，创造出了丰富且具有本民族特点的汉文类书
- ⑥日本与我国一衣带水，隋唐时期两国交流尤为密切

将上述句子组成语意连贯的语段，排序最恰当的一项是（ ）。

- A、②③⑥①⑤④
- B、⑥①③⑤②④
- C、②⑥③④⑤①
- D、⑥⑤③②④①

39、①有线耳机跟手机的关系是“山中只见藤缠树，世上哪见树缠藤”，无线耳机跟手机的关系则是“左右本是同林鸟，大难来时各自飞”

②也就是说，本来已经自成一个小宇宙的包，里面的复杂度、混乱度、神秘度又增添了一分

③有形之线永远剪不断、理还乱，耳机线可能听了太多故事，所以心有千千结，放在包里后再拿出来，哪怕只要五分钟，不知什么神奇力量已经把它缠绞成了一团

④但无线耳机并不比有线耳机的麻烦要少，因为它直接把物品变成三个

⑤无线耳机真的很方便，它永久免除了耳机线打成千奇百怪的结的危险，以及耳机线挂在各种障碍物上

⑥无线耳机取下来要放进专门的充电盒里，手头多一重麻烦，包里多一件小物

将上述句子组成语意连贯的语段，排序最恰当的一项是（ ）。

- A、①⑤⑥③②④
- B、⑤③①⑥②④
- C、①⑥②④③⑤
- D、⑤③④①⑥②

40、①强军胜战有其规律，但人不是完全消极被动地受规律支配

②军队建设和战争对决都是复杂系统，众多的制胜规律往往在战场上同时起作用，共同规制着战争的进程和结局

③都在一个新的时代到来之前及早洞幽察微明规律、透过现象看本质、拨开迷障辨方向。引领了军事潮流，改变了战争面貌

④如马汉的“海权”理论、杜黑的“制空权”理论、富勒的“机械化战争”理论、格雷厄姆的“高边疆”理论等

⑤从世界军事史上看，但凡威名赫赫的统帅和战将，往往都在洞察和运用规律上强于对手，做到了运用之妙、存乎一心

⑥只要深刻洞察规律，能动地把握和驾驭规律，就能掌握强军胜战的主动

⑦那些蜚声中外的军事名著，往往也都深刻揭示了一定时空条件下的战争规律

将上述句子组成语意连贯的语段，排序最恰当的一项是（ ）。

A、①⑥②⑤⑦④③

B、②⑦⑤④①⑥③

C、⑤④⑥①③②⑦

D、⑤②⑦④①⑥③

**三、数量分析。**本部分包括数学运算和资料分析两种类型，在四个选项中选出一个最恰当的答案。

41、某帆船队队员甲先行驾驶帆船从某地出海训练，教练员乙、丙随后分别驾驶摩托艇同时从该地出发，三人航线一致且速度不变，已知乙驾驶摩托艇的速度为每小时 12 千米，追上甲用了 2.5 小时，丙驾驶摩托艇的速度为每小时 15 千米，追上甲用了 1.5 小时，若不考虑其他因素，则乙、丙二人出发时，甲已经航行了（ ）千米。

A、7.50

B、9.75

C、11.25

D、10.50

42、小丁发现，若他按计划于下月 1 日开始一项任务，第 150 天他提交任务时刚好是某月的最后一日，且该日为星期天。在不考虑闰年的情况下，他计划开始任务的月份为（ ）。

A、第一日为周五的二月

B、第一日为周三的二月

C、第一日为周五的五月

D、第一日为周三的五月

43、某社区居委会调查了辖区内 60 岁以上的老人家中准备急救药品的情况。调查时，有准备药品的老人与没有准备药品的老人人数之比为 1:6，经过详细走访了解后，有准备药品的老人人数增加了 27 人，人

13

数为没有准备药品的老人人数的 $\frac{13}{15}$ ，若被调查的老人数量一定，则被调查的老人共有（ ）人。

- A、56
- B、84
- C、112
- D、140

44、某超市为了促销，打算挑一批香菇和酱油配套进行销售。若按5包香菇和2瓶酱油搭配，则香菇多出8包；若按7包香菇和2瓶酱油搭配，则酱油多出12瓶，则此次用于促销的香菇共有（ ）包。

- A、38
- B、63
- C、133
- D、168

45、某公园用12块相同的正方形绿植砖在地面围成一个空心正方形图案，并紧贴图案外围铺放一圈白色石子带作为装饰。现已知石子带外围周长为36米，子带的宽度为0.5米，则12块绿植砖的占地面积为（ ）平方米。

- A、24
- B、36
- C、48
- D、60

### （一）

2022年，全国规模以上工业企业实现利润总额84038.5亿元，比上年下降4.0%。

2022年，规模以上工业企业中，国有控股企业实现利润总额23792.3亿元，比上年增长3.0%，营业收入较上年增长8.4%；股份制企业实现利润总额61610.9亿元，下降2.7%，营业收入较上年增加7.0%；外商及港澳台商投资企业实现利润总额20039.6亿元，下降9.5%，营业收入较上年增加1.3%；私营企业实现利润总额26638.4亿元，下降7.2%，营业收入较上年增加3.3%。

2022年，采矿业实现利润总额15573.6亿元，比上年增长48.6%；制造业实现利润总额64150.2亿元，下降13.4%；电力、热力、燃气及水生产和供应业实现利润总额4314.7亿元，增长41.8%。

2022年，在41个工业大类行业中，21个行业利润总额比上年增长，19个行业下降，1个行业由亏转盈。主要行业利润情况如下：石油和天然气开采业利润总额比上年增长1.10倍，电力、热力生产和供应业增长86.3%，煤炭开采和洗选业增长44.3%，电气机械和器材制造业增长31.2%，专用设备制造业增长3.4%，

汽车制造业增长 0.6%，通用设备制造业增长 0.4%，农副食品加工业增长 0.2%，化学原料和化学制品制造业下降 8.7%，计算机、通信和其他电子设备制造业下降 13.1%，非金属矿物制品业下降 15.5%，有色金属冶炼和压延加工业下降 16.1%，纺织业下降 17.8%，石油、煤炭及其他燃料加工业下降 82.8%，黑色金属冶炼和压延加工业下降 91.3%。

2022 年，规模以上工业企业实现营业收入 137.91 万亿元，比上年增长 5.9%；发生营业成本 116.84 万亿元，增长 7.1%；营业收入利润率为 6.09%，比上年下降 0.64 个百分点。

2022 年末，规模以上工业企业资产总计 156.12 万亿元，比上年增长 8.2%；负债合计 88.30 万亿元，增长 8.6%；所有者权益合计 67.82 万亿元，增长 7.6%；资产负债率为\_\_\_\_\_，比上年上升 0.3 个百分点。

2022 年末，规模以上工业企业应收账款 21.65 万亿元，比上年增长 12.3%；产成品存货 6.04 万亿元，增长 9.9%。

2022 年，规模以上工业企业每百元营业收入中的成本为 84.72 元，比上年增加 0.91 元；每百元营业收入中的费用为 8.20 元，比上年减少 0.42 元。

2022 年，规模以上工业企业每百元资产实现的营业收入为 92.4 元，比上年减少 2.9 元；人均营业收入为 182.7 万元，比上年增加 13.4 万元；产成品存货周转天数为 17.6 天，比上年增加 0.9 天；应收账款平均回收期为 52.8 天，比上年增加 3.5 天。

46、2021 年，全国规模以上工业企业实现利润总额（ ）。

- A、小于 85000 亿元
- B、在 85000-86000 亿元之间
- C、在 86000-87000 亿元之间
- D、大于 87000 亿元

47、2022 年，全国规模以上工业企业每百元资产实现的营业收入同比约（ ）。

- A、下降 3.0%
- B、下降 2.7%
- C、增长 2.7%
- D、增长 3%

48、暂缺

49、以下选项中，填入画横线处最恰当的是（ ）。

- A、47.8%



B、50.2%

C、56.6%

D、63.9%

50、根据以上资料，下列说法正确的有（ ）个。

①2022 年末，全国规模以上工业企业产品存货周转天数同比增长率大于应收账款平均回收期同比增长率

②2022 年制造业实现利润总额的同比变化量大于采矿业与电力、热力、燃气及水生产和供应业实现利润总额的同比变化量之和

③2022 年主要行业利润总额中，同比上涨的行业数量少于同比下降的行业数量

A、0

B、1

C、2

D、3

## （二）

2021 年全国各地人民法院新收知识产权一审案件 57.7 万件，较上年增长 23.5%；审结知识产权一审案件 54.1 万件，较上年增长 16.1%；知识产权民事一审案件服判息诉率达到 90.5%，较上年提升 0.2 个百分点。2021 年全国市场监管部门共查处知识产权领热重法案件（含专利、商标、商业秘密、仿冒混淆）5.2274 万件，较上年增长 28.0%。其中，查处专利违法案件 1.0 万件，较上年增长 41.7%；查处商标违法案件 4.0 万件，较上年增长 26.2%；查处仿冒混淆案件 2224 件，较上年增长 6.6%；查处侵犯商业秘密案件 50 件，较上年增长 72.4%。名级版权执法部门共查办侵权盗版案件 3095 件，较上年增长 40.8%；删除侵权盗版链接 119 万余条。全国知识产权系统共处理专利侵权纠纷行政裁决案件 4.98 万件，较上年增长 17.4%。知识产权海关保护备案有效量为 6.7 万件，较上年增长 32.7%。

### 2021 年每万人高价值发明专利拥有量主要构成情况

	2021 年	同比增长率
战略性新兴产业发明专利有效量（万件）	79.2	16.8%
维持年限超过 10 年发明专利有效量（万件）	32.3	27.7%
在海外有同族专利发明专利（万件）	8.3	21.8%

图 2016-2021年我国知识产权使用费进口额、出口额（亿元）



51、2021 年全国各地人民法院新收知识产权一审案件与审结知识产权一审案件数量的比值较上年约（ ）。

- A、提高 0.06
- B、提高 0.6
- C、减小 0.06
- D、减小 0.6

52、以下选项中，对 2021 年全国市场监管部门查处的各类知识产权领域违法案件数量关系描述错误的是（ ）。

- A、专利违法案件数量大于其他种类案件数量的总和
- B、商标违法案件数量是侵犯商业秘密案件数量的 800 倍
- C、专利违法案件数量同比增速低于侵犯商业秘密案件
- D、仿冒混淆案件数量约占知识产权领域违法案件总数的 4%

53、2021 年我国每万人口拥有的维持年限超过 10 年的发明专利有效量较上年增加了约（ ）件。

- A、7.023
- B、7.007
- C、70063
- D、70238

54、2016-2021 年我国知识产权使用费出口额与进口额之比的变化趋势大致如下图中的（ ）所示。

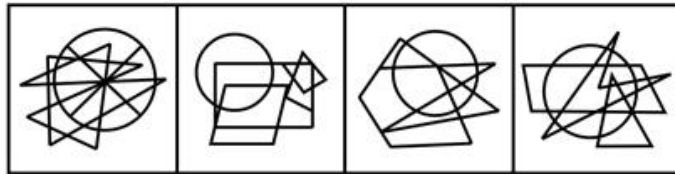
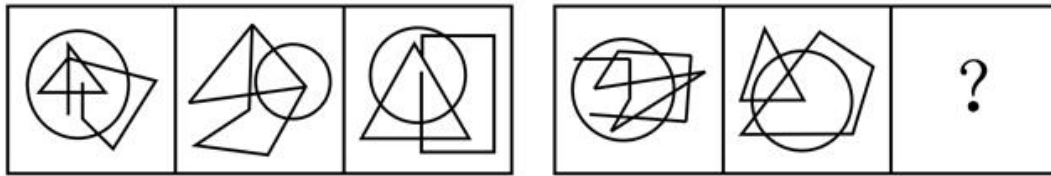


55、下列说法中，可以根据资料得出的是（ ）。

- A、2021 年全国知识产权民事一审案件服判息诉的案件数量为 52.22 万件
- B、2021 年全国知识产权系统共处理专利侵权纠纷行政裁决案件的同比增长量在 7 千件以下
- C、2020 年每万人口高价值发明专利拥有量中，在海外有同族专利权发明专利超过 7 万件
- D、2021 年我国知识产权使用费进口额同比增长率较 2019 年明显上升

**四、判断推理。**本部分包括图形推理、定义判断、类比推理和逻辑判断四种类型的试题，在四个选项中选出一个最恰当的答案。

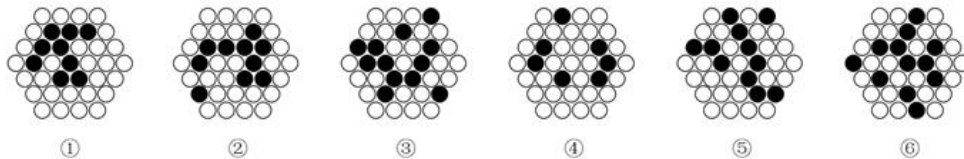
56、根据所给图形的既有规律，选出一个最合理的答案（ ）。



A B C D

- A、A
- B、B
- C、C
- D、D

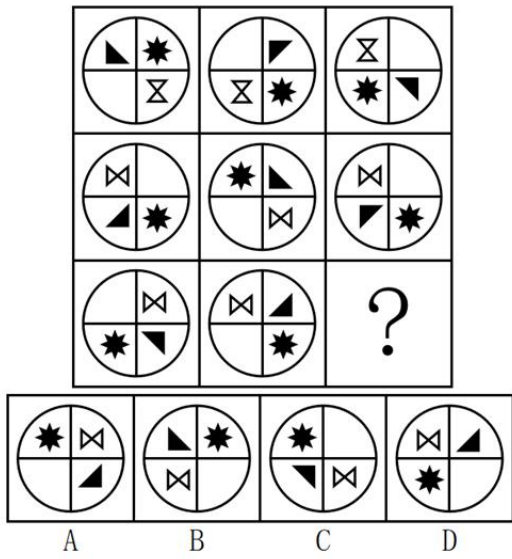
57、下面的六个图形分为两类，使每一类图形都有各自的共同特征或规律，分类最为恰当的一项是



( )。

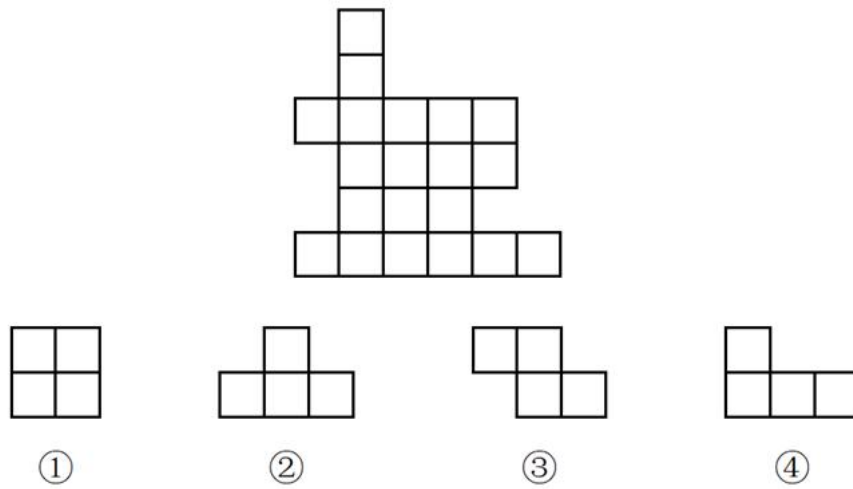
- A、①②④，③⑤⑥
- B、①③④，②⑤⑥
- C、①④⑤，②③⑥
- D、①②⑤，③④⑥

58、根据所给的图形的既有规律，选出一个最合理的答案 ( )。



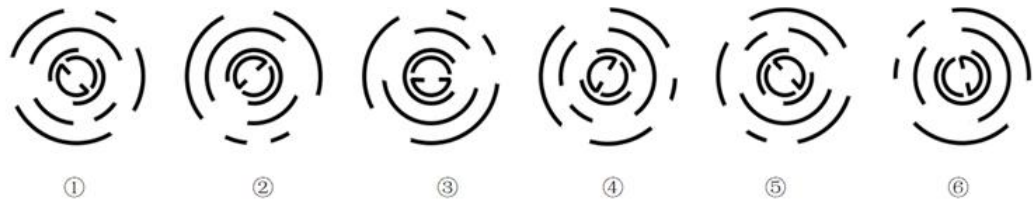
- A、A
- B、B
- C、C
- D、D

59、经任意平面旋转组成下图最少需要用到下列①②③④中的（ ）种俄罗斯方块。



- A、1
- B、2
- C、3
- D、4

60、下面的六个图形分为两类，使每一类图形都有各自的共同特征或规律，分类最为恰当的一项是



( )。

- A、①③⑤，②④⑥
- B、①④⑤，②③⑥
- C、①②③，④⑤⑥
- D、①②④，③⑤⑥

61、优势反应是一种熟练程度极高、遇到某种刺激不加思考就做出的习惯性动作，包括正确反应和错误反应。

根据上述定义，下列属于优势反应的有( )项。

- ①小李在组装书架时，不小心用锤子砸到手，立马甩手缓解疼痛
- ②小王每次在读英语读物时，只要碰到不认识的单词，就标记个问号
- ③小张回到家有想打游戏的冲动，但却坚持先将未完成的工作做完

- A、0
- B、1
- C、2
- D、3

62、史学遗产是指通过各种载体流传下来的前人从事史学活动的总成果，包括各种历史现象的记载，史学家的研究方法、观点和成就，史学在各个时代的作用影响等。根据上述定义，下列不属于史学遗产的是( )。

- A、唐代著名史学理论家刘知几所著的《史通》，是我国历史上第一部史学理论专著
- B、南宋袁枢撰《通鉴纪事本末》，首创纪事本末体，朱熹著《资治通鉴纲目》，开创纲目体
- C、黄宗羲的历史批判精神、顾炎武的经世致用史学思想、梁启超的新史学理论等反映了清朝历史思想新的发展
- D、张骞出使西域，加强了汉夷文化的交往，中原文明通过“丝绸之路”迅速向四周传播

63、鳄鱼法则，假定一只鳄鱼咬住你的脚，如果你用手去试图挣脱你的脚，鳄鱼便会同时咬住你的脚与手，你越挣扎，就被咬住得越多。该效应启示我们遭受损失时应及时止损。

鲶鱼法则：捕捞沙丁鱼的渔民会在装沙丁鱼的船舱里扔几条鲶鱼，由于鲶鱼的追逐沙丁鱼会一直游动，

这样沙丁鱼就不会大量死亡了。该效应启示我们引入适当竞争能够保持组织活力。

根据上述定义，下列体现了鳄鱼法则的有（ ）个。

- ①某大型国企为了发展，从国外招聘了一名高管，引进许多新的管理理念
- ②职工老李竞争单位领导职位失败后，直接辞职了
- ③老王退休后把积蓄都投入股市，近期牛市，他却抛空股票，获利颇丰
- ④老李在路上捡到一部手机，主动联系了失主，失主为感谢老李给了他 200 元

- A、0
- B、1
- C、2
- D、3

64、技能交换是用自己掌握的技能交换别人掌握的技能，各取所需，以达到互相学习的目的，同时节省下高昂的培训费。

根据上述定义，下列最可能属于技能交换的是（ ）。

- A、陈陈医生利用空余时间学习短视频制作，以便向更多的患者科普医学常识
- B、王先生给陈小姐免费拍了一组艺术照片，同时他要求陈小姐能免费教其女儿弹钢琴
- C、大姐在向邻居免费学习烹饪的同时，也向邻居传授了金融理财的专业知识
- D、大学生小张从其他人手里购买了考研辅导资料后便将资料共享给其室友

65、汇编作品是指汇编若干作品、作品的片段或者不构成作品的数据或者其他材料，对其内容的选择或者编排体现独创性的作品。汇编作品的构成成分既可以是受版权法保护的作品及片段，也可以是不受版权法保护的数据或者其他材料。

根据上述定义，下列属于汇编作品的有（ ）个。

- ①《古文观止》
- ②《南宋经典书画集锦》
- ③《现代汉语词典》
- ④《优秀科幻文学作品集》

- A、1
- B、2
- C、3
- D、4

66、墨汁效应，人们往往会只因为一个错误和一件事物就去否定别人，哪怕这个人之前做得再好。人的缺点和错误总是容易被发现的，会被无限放大。就像一杯清水中滴入了滴墨汁，瞬间就能把水染成墨汁的颜色，让人认为不能喝了。

根据上述定义，下列体现了墨汁效应的是（ ）。

- A、错误，心自责，认为自己不能胜任该工作
- B、考满，师认为他考也能取得好成绩
- C、缺失
- D、缺失

67、“之治”常指的是一个国家发展初期，改朝换代的战争等导致社会生产力水平落后，老百姓连基本的温饱问题都解决不了，经过一到两代帝王的励精图治，老百姓的温饱问题初步得到解决，国家积累了一定的财富，整个社会初步繁荣安定；“盛世”指的是经过好几代帝王的励精图治，社会生产力发展达到了顶峰，老百姓生活相较于“治世”时代更加富裕；“中兴”指的是在国力下滑的过程中，如果开创盛世的帝王本人，或者后面的继承者改变政策，重新励精图治，在王朝发展的中后期就会出现国力“反败为胜”的局面。

根据上述定义，下列属于“中兴”的是（ ）。

A、汉文帝登基后，汉朝还没有从秦末农民战争的创伤中完全恢复过来。为了稳定内外局势，汉文帝继续施行刘邦-吕后时期一脉相承的休养生息国策，继续恢复和发展生产力，到汉景帝时，“百姓无内外之徭，得息肩于田亩，天下殷富”

B、汉武帝末年，由于长时期攻打匈奴和施行严刑峻法，阶级矛盾日益尖锐，农民起义不断，民怨沸腾，汉武帝便下了罪己诏，宣布与民休息，后来经过汉昭帝和汉宣帝两代帝王的励精图治，西汉在汉宣帝时期国力重新恢复

C、唐玄宗登基后，任用姚崇、宋璟等人为宰相，励精图治，让唐朝在各方面都达到了极高的水平，国力空前强盛，社会经济空前繁荣，人口大幅度增长

D、北宋和辽缔结澶渊之盟，为宋朝节省了巨额战争开支，促进了宋辽之间的经济文化交流，中华民族的经济、文化、民族融合得到发展

68、绿色建筑的定义可以从以下几个方面来阐述：

节能减排：通过采用高效节能技术、使用可再生能源、减少能源消耗和碳排放等方式，降低建筑的能源消耗和对环境的影响。

资源节约：通过采用环保材料，减少建筑物对土地、水资源和原材料的占用，优化设计等方式，最大



限度地减少资源消耗和浪费。

健康与舒适：通过考虑建筑内部的空气质量、温湿度、采光等因素，为居住者提供健康、舒适的生活环境。

社会责任：通过考虑建筑的社会影响和对居住者的贡献，提高社会责任感和公共认知度。

根据上述定义，下列选项中体现了绿色建筑“资源节约”的是（ ）。

A、温度控制在 10 摄氏度左右来调控冬天和夏天的室内温度最大限度降低冬天供暖及夏天制冷所导致的能耗

B、乙医院充分利用每一个空间来创造绿色医疗环境。它的每一层楼都布满了绿色，使人放松和振作。患者和探望者在花园漫步时，会发现宜人的私密冥想空间

C、雨水系统，将场地内雨水引入下凹式绿地、屋顶花园及蓄水池等生态设施，供绿地浇洒、景观用水、车库及道路冲洗

D、照地的建筑环境，充分尊重当地的习俗，充分尊重人文环境和自然环境的融合，使得丁博物馆成为当地的一个标志性建筑

69、自由贸易，指国家取消对进出口贸易的针对性制和阻碍，取消对国家进出口商品的各种特权和优惠，使商品在国内外市场上自由竞争的一种对外贸易活动。保护贸易是由国家采取各种措施干预对外贸易，以保护本国市场免受外国商品的竞争，包括对本国出口商给予优惠或津贴，奖励出口的方式或活动。

根据上述定义，下列属于保护贸易的是（ ）。

A、多个国家共同签署了 RCEP

B、甲国全境实行进口商品“免申报”“零关税”政策

C、乙国对从丙国进口的计算机产品征收的关税是本国在 WTO 备案的最惠国关税的 2 倍

D、丁国与戊国签订协定，取消戊国农产品进入丁国的市场限制并给予最惠国待遇

70、根据记忆内容和经验对象划分，记忆可分为形象记忆、逻辑记忆、情绪记忆和动作记忆。形象记忆是对感知过的事物具体形象的记忆；逻辑记忆是以对概念、公式、规律等逻辑思维过程为内容的记忆；情绪记忆是对自己体验过的情绪和情感的记忆；动作记忆是对身体运动状态和动作技能的记忆。

根据上述定义，下列说法错误的是（ ）。

A、“余音绕梁三日不绝于耳的记忆”属于形象记忆

B、“质量守恒定律的定义及应用的记忆”属于逻辑记忆

C、“小明在微博里记录了当天参加科学营的开心经历”属于逻辑记忆

D、“武术运动员对拳术一招一式的记忆”属于动作记忆

71、滤芯：净水器

A、商人：社会

B、手术：医院

C、发动机：汽车

D、古迹：遗产

72、水钟：沙漏

A、冰箱：饭盒

B、雨伞：眼镜

C、油画：颜料

D、狼烟：信号灯

73、违规执业：行政处罚

A、测量血压：治疗疾病

B、水土流失：乱砍滥伐

C、见义勇为：交口称赞

D、工厂倒闭：商品滞销

74、智能窗帘：智能家居：智能门锁

A、图形：文字：表格

B、扎染：刺绣：印花

C、太平洋：印度洋：大西洋

D、人类：脊椎动物：鳄鱼

75、孙武：兵圣：三令五申

A、孟子：亚圣：韦编三绝

B、顾恺之：画圣：画龙点睛

C、吕不韦：商圣：奇货可居

D、关羽：武圣：绝伦逸群

76、瞄准：射箭：战士

A、授课：教学：师资

B、调味：烹饪：厨师

C、零件：工人：组装

D、发布：论文：教授

77、鸽子树对于 相当于 对于牡丹。

A、和平 富贵

B、珙桐 富贵花

C、白色 红色

D、单瓣 重瓣

78、报恩对于 相当于 对于高山流水。

A、阳春白雪 恩爱

B、结草衔环 知音

C、五体投地 忠诚

D、鞠躬尽瘁 休闲

79、祥鸡瑞凤临宝地对于 相当于 对于平安二字值千金。

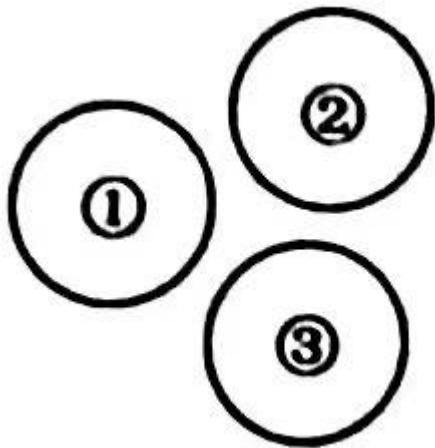
A、紫气金光绕福门 和顺一门有百福

B、一年四季春常在 和顺一门有百福

C、紫气金光绕福门 万紫千红花永开

D、一年四季春常在 万紫千红花永开

80、如果用一个圆来表示概念所指称的对象的集合，那么以下中三个概念之间的关系符合下图（ ）。



A、①计算机，②鼠标，③键盘

B、①事业单位，②国有企业，③公司

C、①采矿业，②制造业，③建筑业

D、①本科，②研究生，③博士

81、数据显示，某国道路交通事故伤亡人员中驾驶电动自行车导致的死亡人数达 8639 人，受伤人数达 44677 人，伤亡人数接近非机动车伤亡人数的 70%，而电动自行车交通事故，多数是当事人交通违法造成的。为此该国出台了更严格的交规，违规者可能被处额的罚款。但此交规出台后，违法行为并没有得到有效遏制。

下列选项如果为真，最能解释上述情况的是（ ）。

- A、“闯红灯”已被列为交通违法行为种类
- B、骑电动车成为绝大部分人出行的选择
- C、电子抓拍设备灵敏度不够高
- D、交规并不能改变人们的“违法性格”

82、研究人员在 2022 年夏季以 1011 名德国成年人为受访对象，开展了在线调研。调研结果显示，当受访者只看到每个月的利息数额时，他们为消费透支或借贷的意愿会比较强烈；而当研究人员向他们展示相关借贷可能带来的年度成本时，受访者的借贷意愿会减弱。由此得出结论：消费借贷的信息呈现方式是影响受访者决定的主要因素。

下列选项如果为真，最能削弱上述结论的是（ ）。

- A、增强相关信息透明度比提升债务人的金融知识水平，更能左右债务人对借贷的决定
- B、缺乏信息透明度会影响金融机构间的公平竞争和金融业创新
- C、无论是使用支票账户的透支功能还是消费贷，利率的差异都不影响还贷成本
- D、金融知识水平的提升，可加强人们对利率和借贷成本的敏感度，从而影响其借贷意愿

83、当前，各国政府以及相关组织进行粮食生产调查、作出粮食安全评估时，主要采用的是面对面或电话访谈的调查方式。这种方式需要更高的资金和人力成本，由于受到各种外界因素的影响，很多国家和地区无法及时获得有关粮食安全的基本数据。针对这一困境，研究人员提出可以通过机器学习算法来获取数据。

下列选项如果为真，最可能是研究人员提出通过机器学习算法来获取数据的前提的是（ ）。

- A、机器学习算法的特点能自动解决大型线性问题，支持在真实场景中更好地决策和操作，而不需要人工干预
- B、机器学习算法可以根据影响粮食生产的主要因素，预测指定地区的粮食安全状况且这种预测的准确度可以达到 81%
- C、机器学习算法可询问大数据集、生成新的和可测试的输出以及具备预测作行为（缺失信息）的能力

D、威胁粮食安全的因素从未消失，包括气候异常、自然灾害，其中尤以病虫害因素最为普遍

84、某专家指出，年轻人越来越不喜欢走亲戚，这一现象的出现有其文化、社会和个体基础，是社会结构、社会关系、人际交往方式变化的一个缩影。但这种亲戚关系的淡化并不必然意味着亲缘关系网络的瓦解。

下列选项如果为真，无法支持专家观点的是（ ）。

A、随着社会的不断发展，亲缘的联结在未来可能有不同的形式，但人情基底还会长于中国社会文化之中

B、互联网深刻改变了人类交往方式和生活方式，年轻人可以通过网络寻找到志趣相投的心理群体获得情感支持

C、中国传统文化仍然渗透于社会教养方式，社会行为规范之中，人情文化仍有相当的影响力

D、年轻人在组建了自己的家庭、有了自己的子女之后，对于亲缘牵绊会有更深的感悟

85、只要引进高层次科研人才并投入充足的科研经费，就能够使一家研究院的科研实力得到显著提升。只有对现行的科研人才晋升制度进行改革，才能引进到高层次科研人才。某研究院经过几年的建设，但其科研实力并未得到显著提升。

假如以上说法均为真，下列选项可以判断真假的是（ ）。

A、过去几年，该研究院一直没有对科研人才晋升制度进行改革

B、过去几年，该研究院尝试对科研人才晋升制度进行改革，但没有成功

C、过去几年，该研究院没有获得充足的科研经费，并且引进不了高层次科研人才

D、过去几年，该研究院可能没有引进高层次科研人才，也可能没有投入充足的科研经费

86、隐蔽工程未经项目监理机构进行检查验收，不得进行工程隐蔽或下道工序的施工。

下列选项无法由此推出的是（ ）。

A、所有经过项目监理机构的检查验收的隐蔽工程都能进行工程隐蔽或下道工序的施工

B、经过项目监理机构的检查验收是隐蔽工程进行工程隐蔽或下道工序施工的必要条件

C、经过项目监理机构检查验收是隐蔽工程进行工程隐蔽或下道工序的施工的前提

D、隐蔽工程只有经过项目监理机构的检查验收，才能进行工程隐蔽或下道工序的施工

87、王、陈、张、李正在商量某社会课题研究的分工，他们当中一个人负责进度汇报，一个人负责整理资料，一个人负责组成文稿，每人只负责其中的一项的工作。已知：

①陈不负责进度汇报，也不负责整理资料

②王不负责进度汇报，也不负责组成文稿

- ③李不负责整理资料，也不负责组成文稿
- ④张不负责组成文稿，也不负责进度汇报
- ⑤如果王不负责整理资料，那么李不负责进度汇报

从上面可以推出张负责（ ）。

- A、进度汇报
- B、收集资料
- C、整理资料
- D、组成文稿

88、甲、乙、丙、丁是某市剧院的四位演员，每位只工“生”“旦”“净”“丑”中的一个行当。已知：

- ①只有甲工“生”，那么乙才不工“旦”；
- ②或者丙工“生”，或者甲工“生”；
- ③只有乙不工“旦”，那么丁才不工“净”；
- ④或者甲不工“丑”，或者丁工“净”。

下列选项中，如果为真，可以推出丙工“生”，（ ）。

- A、甲工“生”
- B、乙不工“旦”
- C、甲工“丑”
- D、丁不工“净”

### （三）

甲研究团队进行了一项试验，他们招募了 18 名身体健康、体重正常的男性志愿者（为了排除女性月经期激素波动的影响），让他们在实验前一天控制饮食并避免剧烈运动。实验当天，研究人员为受试者插上静脉插管，以便采集血样。研究人员在受试者禁食、餐后、餐后 1 小时的三种代谢状态下，分别进行了一次风险偏好的测试。每次测试中，受试者需要在对风险不同的彩票方案中选择更喜欢的一种，总共至少选择 200 次且不设置时间限制。数字越大，面值越大。同一方案的卡片数字差越大，说明风险越高。结果发现，进食后，随着体内控制食欲的激素水平发生变化，食欲降低，财务方面的风险偏好也相应降低了。也就是说，人吃饱之后，倾向于变得更保守、更不愿冒险。

89、下列选项中，最能为该研究团队得出的结论的真实性提供支持的是（ ）。

- A、女性月经期激素波动会对试验结果造成影响，要服用药物来维持体内需要的水平成本较高

B、研究人员是通过测量志愿者体内的激素分泌情况而不是通过口头询问饱还是饿来判断饥饿对人的影响的

C、这 18 名志愿者中有的人不喜欢吃这些“统一的食物”，但为了保证试验顺利进行不得不吃

D、大多数人群在摄入食物后，大概三四个小时食物就会逐渐转变为脂肪，进而达到为机体提供能量的目的

90、若有另一个研究团队乙也开展了相关试验，得出“人们在饥饿状态下更倾向于得出和自己喜好、性格相反的决策”的结论，且甲、乙研究团队的结论均为真实的，则下列说法中必定为假的是（ ）。

A、甲研究团队开展试验的 18 名志愿者在吃饭前比吃饭后更倾向于做出冒险决定

B、小明是个稳妥的人，他总是不能相信自己的判断是否正确，则他可以在吃饱后再作决定

C、乙研究团队开展试验的志愿者中，可能有性格保守的人和性格激进的人

D、小华害怕坐过山车，但他却和朋友游玩时去坐了过山车，则小华坐过山车前一定吃饱了饭

**五、综合分析。**所给出的文字资料均有若干问题要你回答。你应根据资料提供的信息进行分析、判断和处理。

#### （四）

“物勒工名”是指器物的制造者要把自己的名字刻在器物上面，以方便管理者检验产品质量。它是中国古代的一种手工业管理制度，《礼记·月令》载：“物勒工名，以考其诚，功有不当，必行其罪，以穷其情”。大量刻画着工匠名字的出土文物说明这一制度起源很早，\_\_\_\_\_。某种意义上说，“物勒工名”是我国最早的问责制，它不仅是产品质量的重要保障，也是传统工匠精神传承的重要保证。

“物勒工名”制度源远流长

“物勒工名”制度出现在春秋战国时期。早在商周时期即有在青铜器上刻记人名的现象，但此时多是标明物品的所有者，并非制作者。将制造者名字刻上器物的情况出现在春秋战国时期，当时，有些器物上还出现了主造人和监造人的名字，如《殷周金文集成》所录的“十一年蒯令矛”上刻有“十一年，蒯令肖猓、下库工师馭石、冶人參所铸钻户者”的铭文，记录了令（主持者）、工师（监造者）、冶人（制作者）的名字。这种现象在变法运动开展得轰轰烈烈的秦国也大量出现。

秦朝实现了国家统一，“物勒工名”制度也随之被进一步强化，不仅在实践中加强考核，在法律上也得以强化，这在睡虎地出土的秦简中有具体的规定，如《工律》说“公甲兵各以其官名刻久之，其不可刻久之者，以丹若髹书之”。又《效律》云：“公器不久刻者，官啬夫赀一盾。”这说明“物勒工名”制度在秦朝就以法定的形式固定下来。

汉承秦制，“物勒工名”制度的实施日臻完备，其显著标志是，这一制度已深入到官营手工业的各个

方面，目前在一些铜器、漆器、铁器、骨签等出土文物上均发现有铭文，而且铭刻内容较为丰富，如1956年，在贵州清镇平坝汉墓出土的漆耳杯上题字云：“元始三年，广汉郡工官造乘輿髹丹画木黄耳椀，容一升十六籥；素工昌、休工立、上工阶、铜耳黄涂工常、画工方、丹工平、清工匡、造工忠造，护工卒史恽、守长音、丞冯掾林，守令史谭主。”铭文介绍了产品制造的时间、地点、参与制造和监督人员的名单。这说明，在汉代，“物勒工名”制度已经相当成熟。

唐朝在承袭前代“物勒工名”制度的基础上，对该制度进行了丰富和发展。一方面，政府为了确保官营手工业技术领域后继有人，对手工业实行工匠征集制度，为工匠设立“匠籍”，子弟要世袭匠籍。另一方面，政府把“物勒工名”制度和工匠的培养考核结合起来，如《新唐书·百官志》记载：“细镂之工，教以四年；车路乐器之工，三年；平漫刀稍之工，二年；·····岁终以监试之，皆物勒工名。”这一材料说明唐代对属于“细镂之工”的金银工匠及金银器制造，从工匠技艺的培训，到产品的制造、管理等方面均有一套严格的制度。由于政府注重对工匠的培训与考核，唐代涌现出了一批技艺精湛的工匠或工匠家族。如曾参与建造昭陵、翠微宫、玉华宫等大型工程的阎立德，便是唐代杰出的建筑工程师。

明清时期是中国封建专制制度发展的高峰，政府对手工业尤其是官营手工业的管理自然更加严格，“勒名”制度也更为规范、具体，最突出的是在工程材料上都要层层勒名。南京明城墙即为典型的代表。栉风沐雨六百余年，南京明城墙至今仍然雄伟坚固，其中原因很多，有一个细节格外值得关注，每块城墙砖背后的勒名与当时严格的责任制是密不可分的。如在一块“黄州府蕲水县”铭文城砖上刻有67个字，记录了十一级烧砖责任人：黄州府提调官同知曹振祖、司吏黄玘，蕲州提调官判官马彝、司吏倪琦，蕲水县提调官主簿夏时中、司吏谢原，总甲李谷云、甲首叶邦泰、小甲徐贵，窑匠黄益，造砖人夫何兴。这是目前南京城墙上发现的责任层级最多的一块。据此我们可以看到一个结构严密、层次分明的质量责任体系，在这个体系中，上到府县官吏、下到具体做砖的窑匠、民夫，包括基层的总甲、甲首、小甲等管理或者经办人员都要把名字刻在砖上。这种精确到人的责任制，有效加强了制砖工序的管理和监督。

### “物勒工名”制度何以长期延续

我国古代“物勒工名”的手工业管理制度历史悠久，在保证产品或者工程质量方面发挥了重要作用。这一制度之所以产生并长期延续，主要有如下几方面的原因。

提升产品质量的要求。周平王迁都后，原有的统治秩序被打破，国家间的竞争和对抗不断升级，春秋战国时期国家间战争频繁，诸多诸侯国在战争中灰飞烟灭。《管子·兵法》指出“器械巧，则伐而不费”，说明在冷兵器时代，武器装备的质量对战争的胜负影响极大。面对生死存亡的严峻形势，各国都纷纷提升了对武器装备的质量要求，“物勒工名”的责任追究制度便应运而生了。因而我们注意到，这一时期勒名的多为戈、矛等战争利器。另一方面，在古代社会，官营手工业产品多提供给统治集团享用，“犀象珠



玉，· · · · · ·石山隐饰，金银错镂，穷极丽靡，转相夸咤”（《后汉书·王充王符仲长统列传》），这些物品对质量的要求自然很高。统治集团积极助推“物勒工名”制度也是为了满足其自身奢侈生活的需求。

社会分工的需要。春秋战国时期，手工业发展迅速，技术更为复杂、成熟，同时新的生产部门不断涌现，社会分工进一步细化。《考工记》记述了木工、金工、皮革、染色、刮磨、陶瓷等六大类工种，反映出当时中国所达到的科技及工艺水平。越来越细致的社会分工，让生产技术日益专业化，一件产品的完成需要多个工种的配合，只要一个环节出了问题，便会影响整个产品的质量。这就需要一种质量监督管理制度来保证产品的质量，在产品出现质量问题时，能够有效地进行追责，在这种形势下，“物勒工名”制度的产生便是顺理成章的事了。

商品经济发展的推动。随着商品经济的发展，一些技术精湛的私营手工业者为了在市场竞争中取得优势，纷纷借鉴官营手工业“物勒工名”的做法，主动在商品上刻下自己的名号，来标识和推销自己的产品，这便成为商标的雏形。早在春秋战国时期，秦国的民间陶器上便出现了“咸完里奢”“咸沙里突”的字样。这些手工业者在陶器上刻上自己的住处和名字，以与他人区别开来，目的在于彰显自己精湛的制作技术。到了宋朝，便形成了产品的品牌和商标。后来一些品牌成为百年老字号，出现了如“张小泉”剪刀、“王麻子”刀剪、洛阳老城的“济世堂李占标膏药”等著名的品牌，这些名称本身成为产品质量过硬的符号象征。可见，民间手工业者的推动也是“物勒工名”制度得以发展的重要因素。

#### “物勒工名”制度与传统工匠精神

自古以来，我国先民就注重追求工匠精神，如《礼记》云“差若毫厘，谬以千里”，《考工记》指出，“百工之事，皆圣人之作也”。传统的工匠精神主要包括精益求精、敬业专一、诚实守信等内容。“物勒工名”制度对传统工匠精神的形成和传承有着重要的推动作用。

精益求精。中国古代工匠极为重视生产技术上的精益求精，《诗经》中即有“如切如磋，如琢如磨”的说法，切、磋、琢、磨都是在生产中反复进行加工的动作，可见早在先秦时期工匠们就重视产品加工中的质量问题了。“物勒工名”制度之下，统治者制定了严格的质量监管体系，工匠们为了维护自己的声誉，对产品的质量要求也很高，如在制作车辆时，要求车轮达到的技术要求是：“规之以眡其圆也，萬之以眡其匡也，县之以眡其辐之直也· · · · · ·”（《考工记》）。意即车轮圆不圆，辐与牙相交处是不是直角，上下车辐是否成一条直线，两个轮子沉入水中的深度是否相等都认真对待，一丝不苟。在追求产品质量的过程中，工匠们逐渐形成了精益求精的意识。

敬业专一。“物勒工名”作为一种制度长期约束着工匠这一群体，对其产生的精神影响是很大的，在这种要求和压力之下，工匠必须对自己的产品质量负责，认真劳作，兢兢业业，久而久之就内化为“敬业

专一”的意识和实践。《礼记·月令》有云，“物勒工名，以考其诚”，这里的“诚”就是敬业专一的体现，其要求是“毋或作为淫巧，以荡上心”“必功致为上”，指出优质的产品应当是“精良的”，而不是“奇异的”，而精良的产品必须通过敬业专一的“功致”生产出来。

诚实守信。我国先民十分重视诚信，唐代名臣魏征说“德礼诚信，国之大纲”（《贞观政要·诚信》），把诚信作为治国之大纲加以强调。诚信精神在“物勒工名”制度中也得到充分的体现。“物勒工名”制度下，每一件产品都有明确的责任人，政府对不合格产品的追查和处理也十分严格。《秦律·杂抄》规定：“稟卒兵，不完善（缮），丞、库啬夫、吏贲二甲，法废”，也就是说在士兵使用武器的过程中，如果发现质量问题，武器的制造者将被罚款，甚至被追责。“物勒工名”制度让“以次充好”的行为没有生存空间，彰显了对消费者的诚信。

91、填入文章中画横线部分最恰当的一项是（ ）。

- A、源远流长
- B、代代相传
- C、历久弥新
- D、积厚流光

92、下列说法与文章不符的是（ ）。

- A、“物勒工名”制度出现在春秋战国时期
- B、在汉代，“物勒工名”制度已经相当成熟
- C、“物勒工名”制度在秦朝以法定的形式固定下来
- D、唐朝在承袭前代的基础上，“物勒工名”制度最为规范

93、“规之以胝其圜也，萬之以胝其匡也，县之以胝其辐之直也·····”与我国工匠精神中（ ）相符。

- A、创新
- B、敬业
- C、精益
- D、守信

94、根据文章，“物勒工名”制度之所以产生并长期延续的原因不包括（ ）。

- A、社会分工的需求
- B、专制主义中央集权的加强
- C、提高产品质量的要求

D、商品经济发展的推动

95、下列最适合做这篇文章标题的是（ ）。

A、“物勒工名”制度的起源

B、“物勒工名”制度存在的不足

C、“物勒工名”制度与传统工匠精神

D、“物勒工名”制度的历史及延续原因

### （五）

近日，一则《水浒传》被举报的消息在互联网上引起关注。该举报意见认为，《水浒传》中带有滥杀无辜和丑化女性的内容，杀人的武松、李逵、宋江都得到善终，作者“三观不正”，作品是“毒小说”，不适合提供给学生阅读，应该禁止任何学校向学生推荐《水浒传》作为课外读物。

俗话说“狗咬人不是新闻，人咬狗才是新闻”，这则消息能在网络上不胫而走，是因为它足够冲击常识。《水浒传》作为四大名著，它的杰出已经刻进了常识，举报它很容易就会被大众认为荒谬。但是，在《水浒传》还没有成为名著的古代，它其实也曾几次遭到禁止。《西厢记》与杀人放火毫不相干，只是展现男女情爱，也在明清两朝因为与礼教之间的冲突，常常被判为“淫书”，让林黛玉都不好意思在薛宝钗面前承认自己读过。外国名著《包法利夫人》由于讲述了一个与婚外恋有关的自我毁灭的故事，也曾被冠以“败坏公众道德”的罪名，在其诞生地惹上诉讼。

《水浒传》这样的书是否“诲淫诲盗”，其背后是一个阅读观的问题。“诲淫诲盗”这个词中，“诲”意为教导，这揭示了一种观念，即将阅读当成一个受到书中内容教育的过程。阅读确实具有使人受到教育的功能，但是这种教育过程，并不是机械的必然关系。假如一个人读的书里有什么样的人，他就会变成什么样，那么书本中对不道德行为的描述，必定会将读者变得不道德——在这种机械的阅读观下，阅读会是一件极为可怕的事，毕竟哪怕是道德训诫的书本，若要教人向善，首先也要讲一讲什么是恶，可一旦描述了恶，在这个机械的阅读观下，也难保这些描述不会毒害阅读者。按照这个逻辑，想要打造一个绝不毒害人的水晶世界，恐怕只禁掉一部《水浒传》也还是不够。须知阅读并不是罪恶的源头，恶行源自于人性本身。《水浒传》中的武松、李逵，举报意见里认为他们犯下杀人恶行，但他们似乎也不曾读什么“毒小说”。反而现实历史中有不少做出大成就、大事业的，往往对小时候偷读《水浒传》的经历津津乐道。若有人自称看了《水浒传》才去犯罪，只能是他不肯承认自己犯了罪，反而找借口，嫁祸到《水浒传》头上了。

其实，《水浒传》中这些道德上不完美的人物们的故事，阅读它，反而有助于人的心智成长。亚里士多德关于悲剧的“净化”理论认为，悲剧可以唤起人们怜悯、恐惧等情感，被唤起的情感得以净化，让人们对于美德产生新的体验。这个道理也可以用在《水浒传》上。《水浒传》中，一百零八好汉本是天降的

魔星，这已经意味着他们是超出规范的人，并不是作为道德模范被提出的。其故事有时让读者觉得爽快、佩服，有时又觉得同情、怜悯，有时甚至是厌恶、反感。读者可以在情感的激荡中，思考书中人物的功过，思考何为正义。还可以在和作者叙述立场的分歧中，了解古今价值观的异同，批判性地看待书本。这恰恰是时至今日青少年继续读《水浒传》的意义之一。

阅读并不“可怕”，同时阅读也不应该被神化。近日，另一则颇有热度的关于阅读的消息，是朱自清的《经典常谈》加入八年级语文阅读书目。这一变动，可能是为了借此引起初中生对我国经典的兴趣。消息发布后，《经典常谈》的销量短时间内急剧增长，某社出版的版本立竿见影地售出超过百万册。这在纸质书落寞的今天十分罕见，却又在预期之中。然而不少学生读《经典常谈》时感到十分费力。有人为求效率，选择只读、记别人的知识点笔记，反而将原书弃之不顾，此举虽可能于考试得分有利，却似乎背离了阅读课理念的初心。其实《经典常谈》是关于多部中国古代经典的导读，在它诞生的年代，是“中等以上教育”中经典训练的辅助书本，但1930年代中学生的知识结构，与今天的十四五岁学生差别颇大。故而此书现在通常作为大学通识课或中文专业基础课的参考书目。初中语文教材中，也只是将它作为“选择性阅读”，而非“必读”。一个人从书本中获得的，总是和这个人当下的认知水平相匹配。初中生若有学力出众者，打算利用此书，结合课堂、课余读过的经典名篇，进一步了解经典原书，尚且可取；倘若对经典并无兴趣，也无接触渠道，只靠应付任务去阅读它，可能反而会引来厌倦的心思。如果认为阅读了名家好书，就能让阅读者从此脱胎换骨，这也是夸大了阅读的教育功效——它并没有那么神奇。

摆脱对于阅读的某种“误读”，认清阅读在阅读者身上起到的教育功效有限，一些教育者（尤其是家长）或许会感到挫败。但教育作用，其实也是阅读的一种附加作用。相比教育，阅读对于身心健康的作用不仅十分可观，还更加立竿见影。一项英国萨塞克斯大学“心智实验室”的研究表明，阅读6分钟，就可以使压力水平降低68%，这种效果比听音乐、喝茶或咖啡、散步都更加显著。只是为了放松身心去阅读，并不是错误，也不可耻，它对一个人的成长非常重要。儿童文学作家阿斯特丽德·林格伦曾荣获安徒生奖，蜚声世界，《长袜子皮皮》是其最负盛名的儿童文学作品之一，但该书刚问世时却曾引起舆论哗然，因为里面看不出任何童话故事常见的道德训诫。有评论者声称所有读过这本书的人都会模仿皮皮这个特立独行的女孩。但最终，这本书为世界的孩子们带来了快乐，是这些真正的读者认可了林格伦。林格伦在自述她写作儿童文学的目的时说：“我无意去教育或影响那些读我书的孩子。……那些只是想要提供一种阅读体验的书，也应该是被允许存在的。”这也是在为青少年的阅读辩护。

回到《水浒传》话题，那些十几岁的学生，哪怕对于世路人情、江湖社会懵懵懂懂，可还是会因鲁提辖捉弄镇关西的手段忍俊不禁，为林教头风雪山神庙的命运忧心不已。这种阅读体验，对于青少年而言不也是非常宝贵的吗？

96、暂缺

97、根据文意，下列不符合作者态度观点的是（ ）。

- A、《水浒传》的社会争议体现了截然不同的阅读观
- B、立场的分歧反而能够促进读者了解古今价值观的异同，培养批判性思维
- C、阅读名家好书能让读者脱胎换骨，这是阅读的教育功效
- D、阅读对读者起到的教育功效是有限的，它并不是万能的

98、根据文意，下列阅读功效并未在文中提及的是（ ）。

- A、传承经典
- B、净化情感
- C、减轻压力
- D、结识朋友

99、根据文意，“机械阅读观”主要表现在（ ）。

- A、好书必然得具备道德训诫功能
- B、一个人读什么样的书，就会变成什么样的人
- C、阅读后的情绪体验必然是积极的
- D、读者必须选择与之知识层次匹配的书籍

100、下列最能反映这段文字主旨的是（ ）。

- A、应摆脱对于阅读的“误读”
- B、青少年读本选择应慎重
- C、阅读的教育功效不应被夸大
- D、虚构文学不应被道德审判

## 参考答案

1、本题考查政治常识。

《中共中央 国务院关于做好 2023 年全面推进乡村振兴重点工作的意见》在第五部分部署推动乡村产业高质量发展，强调做大做强农产品加工流通业、加快发展现代乡村服务业、培育乡村新产业新业态、培育壮大县域富民产业。

①正确，《中共中央 国务院关于做好 2023 年全面推进乡村振兴重点工作的意见》在加快发展现代乡村服务业方面指出：“加快完善县乡村电子商务和快递物流配送体系，建设县域集采集配中心，推动农村客货邮融合发展，大力发展共同配送、即时零售等新模式，推动冷链物流服务网络向乡村下沉。”

②正确，《中共中央 国务院关于做好 2023 年全面推进乡村振兴重点工作的意见》在做大做强农产品加工流通业方面指出：“完善农产品流通骨干网络，改造提升产地、集散地、销地批发市场，布局建设一批城郊大仓基地。”

③正确，《中共中央 国务院关于做好 2023 年全面推进乡村振兴重点工作的意见》在培育乡村新产业新业态方面指出：“深入实施‘数商兴农’和‘互联网+’农产品出村进城工程，鼓励发展农产品电商直采、定制生产等模式，建设农副产品直播电商基地。”

④错误，《中共中央 国务院关于做好 2023 年全面推进乡村振兴重点工作的意见》在培育壮大县域富民产业方面指出：“引导劳动密集型产业向中西部地区、向县域梯度转移，支持大中城市在周边县域布局关联产业和配套企业。”

综上所述，①②③正确。

故正确答案为 C。

2、本题考查政治常识。

A 项正确，中国式现代化在进程上保持整体一贯性和延续性。中国式现代化是一代又一代中国共产党人自觉担当、主动作为，经过艰辛探索、持续接力而拼出来、干出来的。特别是十八大以来党在理论和实践上的创新突破，成功推进和拓展了中国式现代化。

B 项错误，中国式现代化是全体人民共同富裕的现代化。共同富裕是中国特色社会主义的本质要求，也是一个长期的历史过程。我们坚持把实现人民对美好生活的向往作为现代化建设的出发点和落脚点，着力维护和促进社会公平正义，着力促进全体人民共同富裕，坚决防止两极分化。

C 项正确，在追求现代化的艰苦卓绝奋斗中，我们党领导人民不仅创造了世所罕见的经济快速发展和社会长期稳定两大奇迹，而且成功走出了中国式现代化道路，创造了人类文明新形态。

D 项正确，中国式现代化是人与自然和谐共生的现代化。人与自然是生命共同体，无止境地向自然索取

甚至破坏自然必然会遭到大自然的报复。我们坚持可持续发展，坚持节约优先、保护优先、自然恢复为主的方针，像保护眼睛一样保护自然和生态环境，坚定不移走生产发展、生活富裕、生态良好的文明发展道路，实现中华民族永续发展。

本题为选非题，故正确答案为 B。

3、本题考查经济常识。

①、②正确，2022 年，我国实施一系列税费支持政策，其中既包括了阶段性措施，又有制度性安排；既有税率式优惠，又有税基式优惠；既有退税、减税、免税、缓税政策，又有降费、缓费措施，多种政策工具有效组合、协同发力，为经营主体纾困发展提供了有力支撑。

③错误，要合理规划税费优惠政策实施的方向及方式，以提高政策实施的有效性。从国际经验看，目前税费优惠政策主要有以下几个着力点：一是解决市场失灵，二是作为财政刺激性工具，三是助力产业发展战略，四是吸引投资。其中，解决市场失灵是指用税费政策去弥补正外部性所产生的成本，例如研发以及环境保护的税收优惠政策就是典型的例子，由于研发、环境保护产生成效可能惠及不需要付出成本的市场主体，因此给予相关投入研发及环保的市场主体一定的税费优惠，不但可以产生激励作用，同时也满足了弥补成本的作用。故应为“弥补正外部性所产生的成本”，而非“负外部性”。

综上，①②正确。

故正确答案为 C。

4、本题考查政治常识。

①错误，《数字中国建设整体布局规划》指出，到 2025 年，基本形成横向打通、纵向贯通、协调有力的一体化推进格局，数字中国建设取得重要进展。

②正确，《数字中国建设整体布局规划》指出，打造自信繁荣的数字文化。大力发展网络文化，加强优质网络文化产品供给，引导各类平台和广大网民创作生产积极健康、向上向善的网络文化产品。

③正确，《数字中国建设整体布局规划》指出，按照夯实基础、赋能全局、强化能力、优化环境的战略路径，全面提升数字中国建设的整体性、系统性、协同性，促进数字经济和实体经济深度融合，以数字化驱动生产生活和治理方式变革，为以中国式现代化全面推进中华民族伟大复兴注入强大动力。

④正确，《数字中国建设整体布局规划》指出，数字中国建设按照“2522”的整体框架进行布局，即夯实数字基础设施和数据资源体系“两大基础”，推进数字技术与经济、政治、文化、社会、生态文明建设“五位一体”深度融合，强化数字技术创新体系和数字安全屏障“两大能力”，优化数字化发展国内国际“两个环境”。

综上所述，②③④正确。

故正确答案为 B。

5、本题考查经济常识。

边际成本是指在一定产量水平下，增加或减少一个单位产量所引起成本总额的变动数；一般而言，随着产量的增加，总成本递减的增加，从而边际成本下降，也就是所说的规模效应。

机会成本又称择一成本或替代性成本，是指在经济决策过程中，因选取某一方案而放弃另一方案所付出的代价或丧失的最大潜在利益。

沉没成本是指以往发生的，但与当前决策无关的成本。

①错误，小明选择审计助理，在其放弃的方案，收益最大的是出纳，则其机会成本就是出纳的月薪 6000 元。

②错误，投资人花 10 万元买一辆车，付款后，这 10 万元就属于不可收回的沉没成本。

③错误，生产一架飞机的成本很高，随着工艺进步，生产第 101 架飞机的成本就低得很多，是因为有边际成本的存在，形成了规模效应，即随着产量的增加，总成本递减的增加。

综上，①②③均错误。

故正确答案为 A。

6、本题考查科技常识。

①正确，凡属含碳的燃料，如汽油、煤油、木炭等，在缺氧而不能充分燃烧时，皆可产生大量的一氧化碳。吸入一氧化碳对人体有非常大的伤害，一氧化碳会结合血红蛋白生成碳氧血红蛋白，使血红蛋白丧失携氧的能力和作用，造成组织窒息，这种情况被称为“一氧化碳中毒”。

②正确，热水器应该安装在通风、干燥的室内位置，与浴室隔开，避免阳光直射和潮湿环境，同时也要避免安装在易燃和易爆的场所；燃气热水器在使用时建议将排气扇打开，或是直接将窗户打开保持通风顺畅，以免中毒。

③错误，在通常状况下，一氧化碳为无色、无臭、无刺激性的气体，在水中的溶解度很低，极难溶于水。

④正确，使用煤炉取暖时，要保持室内通风，以防止一氧化碳中毒。使用前彻底检查，保证炉灶和烟筒完好畅通，接口处应密封；还应安装排烟管道，确保管道畅通、不漏气。

综上，①②④正确。

故正确答案为 A。

7、本题考查人文常识。

A 项错误，“相地而衰征”是春秋时期管仲提出的按照土地不同情况分等征收农业税的财政思想。这是



管仲为齐桓公所设计的富国强兵、称霸天下的方案之一。

李悝曾在战国时期魏国主持变法。他在经济上推行“尽地力”和“善平糶”的政策，鼓励农民精耕细作，增强产量；国家在丰年以平价购买农民余粮，到荒年再以平价卖给农民，以平抑粮价。他还汇集当时各国法律编成《法经》，是我国古代第一部比较完整的法典。

B项正确，战国时期，商鞅在秦国先后两次实行以“废井田、开阡陌，实行县制，奖励耕织和军功，实行连坐之法”为主要内容的变法。经过商鞅变法，秦国的经济得到发展，军队战斗力不断加强，发展成为战国后期最富强的集权国家。

C项正确，南北朝时期，北魏孝文帝在位时推行政治改革。其主要内容是汉化运动，包括：推行均田制和户调制，变革官制和律令，迁都洛阳，分明姓族，改易汉俗等。孝文帝所推行的汉化改革措施有利于缓和阶级矛盾，为社会经济的恢复和发展发挥了积极作用。

D项正确，王安石变法，是发生在宋神宗时期的改革，王安石发动的旨在改变北宋建国以来积贫积弱局面的一场政治改革运动。王安石变法以发展生产，富国强兵，挽救宋朝政治危机为目的，以“理财”“整军”为中心，涉及政治、经济、军事、社会、文化各个方面。宋神宗死后，起用司马光为相，新法除置将法外，全部被废。

本题为选非题，故正确答案为A。

8、本题考查科技常识。

①“奋斗者”号是中国研发的万米载人潜水器，于2016年立项。2020年6月19日，中国万米载人潜水器正式命名为“奋斗者”号。作为“十三五”国家重点研发计划“深海关键技术与装备”重点专项核心研制任务，“奋斗者”号于2020年11月完成万米海试，创造了10909米的中国载人深潜纪录，体现了中国在海洋高技术领域的综合实力。

②“蛟龙”号载人深潜器是我国首台自主设计、自主集成研制的作业型深海载人潜水器。“蛟龙号”可在占世界海洋面积99.8%的广阔海域中使用，对于我国开发利用深海的资源有着重要的意义。2013年6月17日，中国“蛟龙”号载人潜水器从南海一冷泉区海底回到母船甲板上，三名下潜人员出舱，标志着“蛟龙”号首个试验性应用航次首次下潜任务顺利完成。

③“深海勇士”号载人潜水器是中国第二台深海载人潜水器，它的作业能力达到水下4500米。2017年10月3日，“深海勇士”号载人深潜试验队在中国南海完成全部海上试验任务，胜利返航三亚港。

④量子卫星“墨子号”是中国自主研发的世界上首颗空间量子科学实验卫星。2016年8月16日，中国在酒泉卫星发射中心用长征二号丁运载火箭成功将“墨子号”量子科学实验卫星发射升空，进入预定轨道。

由上述可知，与海洋有关的“大国重器”有①②③。

故正确答案为 B。

9、本题考查人文常识。

①1953 年 6 月，党中央提出了过渡时期总路线，指出从中华人民共和国成立，到社会主义改造基本完成，这是一个过渡时期。党在这个过渡时期的总路线和总任务，是要在一个相当长的时期内，逐步实现国家的社会主义工业化，并逐步实现国家对农业、手工业和资本主义工商业的社会主义改造。到 1956 年，全国绝大部分地区基本上完成了对生产资料私有制的社会主义改造。

②1950 年 6 月，朝鲜内战爆发。朝鲜战场形势的突变，也使中国大陆的安全面临严重威胁，当年 10 月，中共中央艰难作出决策：抗美援朝保家卫国。1950 年 10 月 19 日，中国人民志愿军跨过鸭绿江，开赴前线，同朝鲜人民军并肩作战，抗击美国侵略者。

③1945 年 8 月 28 日，应蒋介石邀请，毛泽东、周恩来、王若飞在美国驻华大使赫尔利、国民党政府代表张治中的陪同下从延安乘飞机抵达重庆，为商讨团结建国大计，共产党同国民党开始重庆谈判。经过 43 天的谈判，在 10 月 10 日签署《政府与中共代表会谈纪要》，即《双十协定》。

④1927 年 10 月，毛泽东率领湘赣边秋收起义的工农革命军到达罗霄山脉中段的井冈山地区。井冈山革命根据地是土地革命战争时期，中国共产党在湖南、江西两省边界罗霄山脉中段创建的第一个农村革命根据地。

按时间排序为④③②①。

故正确答案为 D。

10、本题考查地理常识。

A 项正确，水稻种植业是潮湿的热带和亚热带地区一种独特类型的农业，主要集中在东亚、东南亚、南亚的季风区以及东南亚的热带雨林区。水稻种植业是一种需要投入大量劳动力的精耕细作的集约农业，而东亚、东南亚、南亚人口稠密，劳动力丰富，因此世界水稻种植业主要分布在东亚、东南亚、南亚的季风区，东南亚的热带雨林区。水稻生产是以家庭为单位的小农经济，每户耕种的田地很少。农民在田里精耕细作，使稻谷的单位面积产量较高，但是由于生产规模小，所以商品率低。从总体上看，机械化和科技水平还比较低。

B 项正确，大牧场放牧业是一种进行大规模商品畜牧业生产的农业地域类型。这种农业往往分布于干旱、半干旱气候区，地广人稀，地表主要为草原植被，因而形成了大牧场放牧业。牛、羊是其主要生产对象，具有生产规模大、商品率高以及专业化程度高的特点，主要分布在美国、澳大利亚、新西兰、等国家，其中牧牛在美国牧场上有重要的位置，而羊在澳大利亚等国占有重要地位。

C 项正确，商品谷物农业是世界上生产商品粮的主要地域类型，是一种面向市场的农业类型，种植的作

物以小麦和玉米为主，主要分布在美国、加拿大、阿根廷、俄罗斯、乌克兰、我国东北等地区，具有商品率高、机械化程度高、生产规模大的特点。

D项错误，混合农业是一种在同一农场中将种植业和畜牧业有机结合在一起的农业生产地域类型。主要分布在欧洲、北美、南非、澳大利亚以及新西兰等地，种植小麦、玉米等谷物以及牧草和饲料作物，饲养的牲畜主要是牛、猪、羊等。混合农业的形式多样，但生产形式较稳定、分布较广泛、商品生产有一定规模的，机械化水平高、较好的灵活性和市场适应性。

本题为选非题，故正确答案为D。

11、本题考查人文常识。

A项错误，《早春图》是北宋宫廷画家郭熙创作的一幅绢本设色画，此画创作于神宗熙宁五年（1072年），为郭熙晚年之作，现藏于台北故宫博物院。《早春图》主要景物集中在中轴线上，以全景式高远、平远、深远相结合之构图，表现初春时北方高山大壑的雄伟气势，渲染出画面宁谧而生机勃勃的氛围。李唐，南宋画家。初以卖画为生，宋徽宗赵佶时入画院。与刘松年、马远、夏圭并称“南宋四大家”。存世作品有《万壑松风图》《清溪渔隐图》《烟寺松风》《采薇图》等。

B项正确，《踏歌图》是南宋画家马远创作的一幅绢本设色山水人物画，现藏于北京故宫博物院。《踏歌图》中，作者表现了雨后天晴的京城郊外景色，同时也反映出丰收之年，农民在田埂上踏歌而行的欢乐情景。马远，生长于临安（今浙江杭州），南宋绘画大师。存世作品有《踏歌图》《水图》《梅石溪凫图》《西园雅集图》等。

C项错误，《千里江山图》是北宋王希孟创作的绢本设色画，现收藏于北京故宫博物院。其描绘祖国千里山河壮丽雄伟、灿烂辉煌的景色，为宋代青绿山水中的巨制杰作。郭熙，北宋杰出画家、绘画理论家。传世作品有《早春图》《关山春雪图》《山林图》等。

D项错误，《女史箴图》为中国东晋顾恺之创作的绢本绘画作品，现收藏于大英博物馆。《女史箴图》成功地塑造了不同身份的宫廷妇女形象，一定程度上反映了作者所处时代的妇女生活情景。王希孟，北宋晚期著名画家，中国绘画史上仅有的以一张画而名垂千古的天才少年，代表作品为《千里江山图》。

故正确答案为B。

12、本题考查人文常识。

A项正确，“秦时明月汉时关，万里长征人未还。但使龙城飞将在，不教胡马度阴山。”出自唐代王昌龄的《出塞》，诗人借古讽今，表现他对唐王朝不能任用得力将领平定边患、巩固边防的愤慨，同时希望早日平息边塞战事，使人民过上安定的生活。

B项正确，“白发三千丈，缘愁似个长。不知明镜里，何处得秋霜。”出自唐代李白的《秋浦歌十七首》。

白发长达三千丈，是因为太过忧愁，看着镜子中的影子，不知道两鬓是什么时候在哪里染上这秋霜的。该诗运用夸张的想象，写离愁之深长，表达了诗人壮志难酬、怀才不遇而发出的无限愁思。

C 项正确，“白日放歌须纵酒，青春作伴好还乡。”出自唐代杜甫的《闻官军收河南河北》。此诗作于唐代宗广德元年（763）春。当年正月史朝义自缢，安史之乱结束。杜甫听到这消息，不禁惊喜欲狂，手舞足蹈，冲口唱出这首诗。全诗感情奔放，痛快淋漓地抒发了作者无比喜悦的心情，表现了诗人对胜利与和平的渴望。

D 项错误，《春夜喜雨》的作者是杜甫，而非白居易。此诗以极大的喜悦之情细致地描绘了春雨的特点和成都夜雨的景象，热情地讴歌了来得及时、滋润万物的春雨。

本题为选非题，故正确答案为 D。

13、本题考查人文常识。

A 项正确，“青简”指的是古代用以书写的狭长竹片，书籍的代称。古代没有纸时，把字写在竹简上，用皮绳把竹简编缀起来，故称书籍为“青简”。

B 项正确，“芸帙”，书籍的代称。古代有了纸以后，人们为了防止虫对书的咬噬，常在书里放“芸香”，后人便用“芸帙”“芸编”“芸签”等代称书籍。

C 项错误，“缥”是青白色丝织物，“緗”是浅黄色的丝织物，古人常用这两种丝织物作书籍的封皮、封套，所以“缥緗”等也成为了古代书籍的代称。

D 项正确，“坟典”是“三坟五典”的简称，是中国先秦时期的典籍。孔子作《尚书·序》称：“伏羲、神农、黄帝之书，谓之《三坟》，言大道也；少昊、颛顼、高辛（喾）、唐（尧）、虞（舜）之书，谓之《五典》”。“三坟五典”有时用来泛指古代典籍，故称书籍为“坟典”。

本题为选非题，故正确答案为 C。

14、本题考查地理常识。

“蜡树银山炫皎光，朔风独啸静三江。老农犹喜高天雪，况有来年麦果香”出自左河水的《大寒》。

A 项错误，题干描述的节气是大寒，不是小雪。大寒在岁终，冬去春来，大寒一过，又开始新的一个轮回。小雪，是二十四节气中的第 20 个节气，冬季第 2 个节气。

B 项正确，大寒是全年二十四节气中的最后一个节气，时间为每年 1 月 20 日前后。

C 项错误，每年 12 月 22 日左右“冬至”日的时候，这一天太阳直射南回归线，北半球是夜最长，昼最短。

D 项错误，立冬代表着冬季的开始，北方大部分地区将出现雨雪降温天气。

故正确答案为 B。

15、本题考查人文历史。

A项错误，“连云列战格，飞鸟不能逾”出自唐代杜甫的《潼关吏》，意思是那些防御工事高耸入云端，即使飞鸟也不能越逾。描写的是防御的情况，并不是狩猎，对应错误。

B项正确，“为我一挥手，如听万壑松”出自唐代李白的《听蜀僧濬弹琴》，意思是他为我挥手弹奏了名曲，我好像听到万壑松涛的声音。对应弹琴正确。

C项正确，“身轻裙薄易生力，双手向空如鸟翼”出自唐代王建的《秋千词》，意思是身子轻盈，衣裙轻薄容易使出力气，两只手攥住丝绳，就象飞向空中的鸟翼一般。描写的是荡秋千的状态，对应正确。

D项正确，“棹影斡波飞万剑，鼓声劈浪鸣千雷”出自唐代张建封的《竞渡歌》，描述的是端午节龙舟竞渡的激烈场景，对应正确。

本题为选非题，故正确答案为A。

16、本题考查法律常识。

A项错误，根据《道路交通安全法》第一百一十九条规定：“本法中下列用语的含义：（一）‘道路’，是指公路、城市道路和虽在单位管辖范围但允许社会机动车通行的地方，包括广场、公共停车场等用于公众通行的场所。”因此，向社会通行开放的小区、单位内部道路、公共停车场、地下车库等均属于道路的范畴，酒后在上述区域内驾驶机动车均属于酒驾，要受到处罚。所以，选项中提到的小区内的道路均不属于开放道路，表述错误。

B项错误，根据《道路交通安全法》第九十一条规定：“饮酒后驾驶机动车的，处暂扣六个月机动车驾驶证，并处一千元以上二千元以下罚款。因饮酒后驾驶机动车被处罚，再次饮酒后驾驶机动车的，处十日以下拘留，并处一千元以上二千元以下罚款，吊销机动车驾驶证。醉酒驾驶机动车的，由公安机关交通管理部门约束至酒醒，吊销机动车驾驶证，依法追究刑事责任；五年内不得重新取得机动车驾驶证。”交警大队可以对王某扣押驾驶证。

C项错误，根据《行政复议法》第十二条规定：“对县级以上地方各级人民政府工作部门的具体行政行为不服的，由申请人选择，可以向该部门的本级人民政府申请行政复议，也可以向上一级主管部门申请行政复议。”因此，王某对于交警部门作出的行政处罚决定不服，可以向该交警部门的上一级交通管理部门或者是管辖该交警部门的人民政府提出复议申请。C项中的人民政府范围过于广泛，表述不严谨。

D项正确，根据《道路交通安全法实施条例》第二十八条规定：“机动车驾驶人在机动车驾驶证丢失、损毁、超过有效期或者被依法扣留、暂扣期间以及记分达到12分的，不得驾驶机动车。”

故正确答案为D。

17、本题考查法律常识。

根据《刑法》第二百六十三条规定：“以暴力、胁迫或者其他方法抢劫公私财物的，处三年以上十年以下有期徒刑，并处罚金；有下列情形之一的，处十年以上有期徒刑、无期徒刑或者死刑，并处罚金或者没收财产：（一）入户抢劫的；（二）在公共交通工具上抢劫的；（三）抢劫银行或者其他金融机构的；（四）多次抢劫或者抢劫数额巨大的；（五）抢劫致人重伤、死亡的；（六）冒充军警人员抢劫的；（七）持枪抢劫的；（八）抢劫军用物资或者抢险、救灾、救济物资的。”

A 项正确，属于在公共交通工具上抢劫，符合题意。

B 项错误，乙的行为不属于抢劫罪。根据《刑法》第二百七十五条规定：“故意毁坏公私财物，数额较大或者有其他严重情节的，处三年以下有期徒刑、拘役或者罚金；数额巨大或者有其他特别严重情节的，处三年以上七年以下有期徒刑。”故意毁坏财物罪是指故意毁灭或者损坏公私财物，数额较大或者有其他严重情节的行为。乙强行砸坏了机器属于故意毁坏财物罪。

C 项错误，丙不知道该物资属于救济物资，不符合题意。

D 项错误，丁是在入户后才临时起意实施抢劫，不属于入户抢劫，不符合题意。

故正确答案为 A。

18、本题考查科技常识。

A 项正确，在长期的奋斗中，我国航天工作者不仅创造了非凡的业绩，而且铸就了特别能吃苦、特别能战斗、特别能攻关、特别能奉献的载人航天精神。2021 年 9 月，党中央批准了中央宣传部梳理的第一批纳入中国共产党人精神谱系的伟大精神，载人航天精神被纳入。

B 项正确，从长征五号 B 运载火箭成功试飞到神舟十五号乘组进入到空间站，我国空间站成功走过了空间站建设的前两阶段，即关键技术验证阶段和在轨建造阶段，正式转入运营阶段。在这个过程中我国也独立完成中国空间站从设计、制造到测试的全过程。

C 项正确，国务院新闻办公室 2022 年 1 月 28 日发布《2021 中国的航天》白皮书中指出：坚持独立自主与开放合作相结合，深化高水平国际交流与合作，拓展航天技术和产品全球公共服务，积极参与解决人类面临的重大挑战，助力联合国 2030 年可持续发展议程目标实现，在外空领域推动构建人类命运共同体。与埃及、巴基斯坦、尼日利亚等国家合作建设卫星研制基础设施。推动“一带一路”空间信息走廊建设，向发展中国家开放中国空间设施资源。

D 项错误，“嫦娥”是我国探月工程代号；“祝融”是我国火星车代号；“羲和号”是我国首颗太阳探测科学技术试验卫星；“天问”系列是中国行星探测任务名称。

本题为选非题，故正确答案为 D。

19、本题考查科技常识。

图片为制氢工艺示意图。目前，世界上 96%的氢来源于煤、天然气等化石燃料，剩余的 4%主要来源于电解水。制氢工艺可分为三大类：化工工艺，包括气化、重整、裂/热解等；光/电工艺，包括光解、电解等；生物工艺，包括微生物发酵等。

图中为生物质制氢过程，包括生物质发酵、生物质气化、生物油热解等多种形式，制氢过程中释放的二氧化碳能够与形成时吸收的相抵消，属于“碳中和”制氢方法。

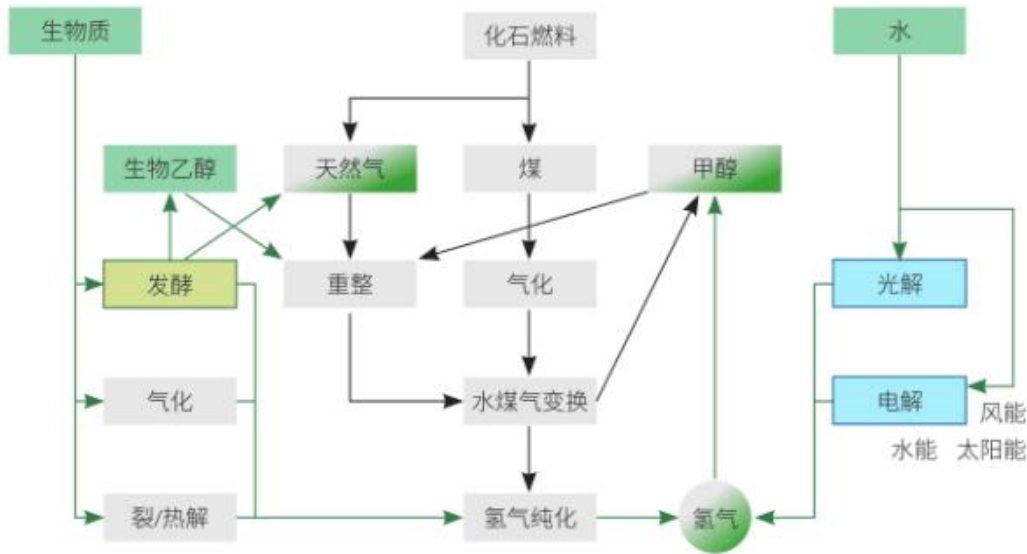


图 1 制氢工艺  
Figure 1 Hydrogen production process

故正确答案为 A。

20、本题考查科技常识。

A 项正确，日常生活中，可以用 75%的医用酒精来进行物体表面的消毒。使用医用酒精进行消毒时，建议通过擦拭的方法，对物体表面进行消毒，不建议在房间大面积喷洒酒精。因为酒精属于易燃易爆挥发的液体，挥发后气态酒精与空气可形成爆炸性混合物，遇明火、高热能引起爆炸燃烧。

B 项错误，84 消毒液是一种以次氯酸钠为主要成分的含氯消毒剂，主要用于物体表面和环境等的消毒。次氯酸钠具有强氧化性，可水解生成具有强氧化性的次氯酸，能够将具有还原性的物质氧化，使微生物最终丧失机能，无法繁殖或感染。

C 项正确，紫外线灯，也叫紫外线消毒灯，紫外线主要作用于微生物的 DNA，破坏 DNA 结构，使之失去繁殖和自我复制的功能从而达到杀菌消毒的目的。但如果没有防护措施，极易对人体造成巨大伤害。如果裸露的肌肤被这类紫外线灯照射，轻者会出现红肿、疼痛、脱屑；重者甚至会引发癌变、皮肤肿瘤等。同时，它也是眼睛的“隐形杀手”，会引起结膜、角膜发炎，长期照射可能会导致白内障。

D项正确，过氧化氢，是一种无机化合物，化学式为 $H_2O_2$ 。纯过氧化氢是淡蓝色的黏稠液体，可任意比例与水混溶，是一种强氧化剂，水溶液俗称双氧水，为无色透明液体。过氧化氢3%~6%溶液，10分钟可以消毒。过氧化氢10%~25%溶液，60分钟可以灭菌，用于不耐热的塑料制品，餐具、服装等消毒。

本题为选非题，故正确答案为B。

21、根据横线后“广阔视野下，全面考察历史·····”，可知此处应体现看待历史的视角全面广阔。对应C项“思接千载”，意思是思绪连接古今，能看到千年前的风光，当选。A项“万众瞩目”指大家十分关注，目不转睛地注视，不合文意，排除；B项“天马行空”比喻诗文气势豪放，不受拘束，不合文意，排除；D项“瞬息万变”指在短时间内发生众多变化，也不符合“全面考察历史”的文意，排除。

故正确答案为C。

22、第一空，根据前后文“儿童手表·····系统过于老旧”“获取孩子的位置·····进而恶意收集”，可知此处应体现恶意程序可以轻松进入到儿童手表系统中，从而收集信息。D项“植入”即把某物加入、嵌入，A项“入侵”指强行侵入，均能够表示恶意程序进入儿童手表系统中，保留。B项“繁衍”指繁殖衍生，使其逐渐增多、增广，不合文意，排除；C项“攻击”侧重进攻和破坏之意，文段并非强调恶意程序破坏儿童手表系统，排除。

第二空，根据文段可知，恶意程序侵害儿童隐私的行为，阻碍了相关法律法规的实践落实。D项“掣肘”意为拉着胳膊，从旁牵制，符合文意，当选；A项“轻视”指不认真对待，不合文意，排除。

故正确答案为D。

23、第一空，根据文段，可知自孔子提出儒家为学宗旨后，后世儒者皆遵从孔子提出的宗旨。B项“圭臬”指把某些言论或事当成自己的准则，D项“准绳”意思是标准、准则，二者均符合文意，保留；A项“龃龉”比喻意见不合，与文意相悖，排除；C项“耆宿”指年老资深德高望重的人，不合文意，排除。

第二空，搭配“坠入”，根据后文指代词引导的语句“这无疑是·····转向”以及“忘记了儒学乃切己，切身之学”，可知大多学人在后期研究时方向错误且忘记研究事物本身的出发点，B项“漩涡”指旋转形成的螺旋形，亦指矛盾或事件中心，可体现学人迷失了研究的方向，符合文意，当选；D项“泥泞”淤积的烂泥，一般搭配“陷入”，而与“坠入”搭配不当，排除。

故正确答案为B。

24、第一空，根据前文“只顾自身一路野蛮生长”可知，文段强调企业利用消费者进行自身发展，将消费者当作发展道路上的利用工具，伤害了消费者的利益。A项“敲门砖”指敲门的砖石，比喻借以谋取名利的工具；B项“摇钱树”比喻借以获取钱财的人或物；D项“垫脚石”指步行时踏脚的石头，比喻被别人借以向上爬的人或事物，三者均可指代“被利用的工具”，符合文意，保留；C项“绊脚石”比喻对前进有



阻碍作用的事物，不合文意，排除。

第二空，搭配“底线”，根据文段可知应体现出企业的做法有严重问题，已经超出底线。D项“逾越”有超出、超过、凌驾之意，且感情色彩为贬义，当选；A项“挑战”指激使敌方出战，无法体现越过底线，排除；B项“超越”与“底线”搭配不当，排除。

故正确答案为D。

25、本题可从第二空入手。根据前文“拓展丰富农业生产活动，一方面·····另一方面”，以及第二空横线后“是·····解决冗余劳动力和农产品短缺问题的农业经营方式”，可知文段强调拓展丰富农业活动这一手段能解决两个问题，获取两种好处，感情色彩为褒义。对应B项“一举两得”，即做一件事，同时收获两方面的好处，C项“一箭双雕”比喻做一件事达到两个目的，二者均符合文意与感情色彩，保留；A项“一本万利”侧重付出本钱小而利润大，不符合文意，排除；D项“一蹴而就”侧重事情轻而易举，一下子就成功，不符合文意，排除。

第一空，搭配“更多的劳动力”，B项“吸纳”指吸收、接纳，可体现让土地容纳更多的劳动力，符合文意且搭配得当，当选；C项“汲取”指取水、吸取，一般搭配“经验”“生命力”等，与“劳动力”搭配不当，排除。

故正确答案为B。

26、第一空，根据前文“其他艺术家纷纷前往巴黎，莫兰迪静静地守在自己的工作室里·····创造自己的艺术形象”，可知此处应体现出莫兰迪大师坚持在工作室中创造艺术，A项“孜孜不倦”指工作或学习勤奋刻苦，勤恳，不知疲倦，B项“坚韧不拔”形容信念坚定，意志顽强，二者均符合文意，保留；C项“按部就班”指按照一定的步骤、顺序进行，感情色彩不如前两项符合文意，排除；D项“锱铢必较”形容斤斤计较，十分吝啬，不合文意，排除。

第二空，搭配“艺术之‘道’”，即艺术的途径、规律和精神，A项“寻找”与之搭配得当，当选；B项“发掘”指把埋藏的东西挖掘出来，一般搭配已有事物，根据前文“创造自己的艺术形象”，此处的“艺术之‘道’”有可能是新事物，故“发掘”搭配不当，排除。

故正确答案为A。

27、第一空，根据前文中社会治理经验可以借鉴，但不是简单的取精华、去糟粕的相关内容，说明国际化与本土化需要有一个融合适应的过程。A项“磨合”指经过调整、改善，逐步形成共识，融合为共同体的过程，符合文意，保留；B项“契合”指投合，意气相投，与前文“经过”搭配不当，排除；C项“锤炼”指锻炼，磨炼，D项“研磨”指研究琢磨，还指细磨使粉碎或光滑，二者均不能体现国际化与本土化的融合过程，排除。

第二空代入验证，所填词语搭配“焦点话题”，A项“方兴未艾”意思是事物正在发展，尚未达到止境，搭配得当，当选。

故正确答案为A。

28、第一空，搭配“重要概念的内涵和外延”，根据前文“概念混淆不清甚至误用的情况”，可知横线处所填词语应有梳理清楚、避免混淆之意，A项“辨析”指辨别分析，C项“廓清”指澄清、搞清楚，二者均符合文意，保留；B项“肃清”指消灭干净，D项“阐明”指讲明白，二者均不符合文意，排除。

第二空搭配“两者之间的关系”，A项“梳理”指整理，C项“厘清”指整理清楚，二者均可搭配“关系”，且符合文意，保留。但对比可知，“厘清”比“梳理”多了“清楚”之意，语意更加丰富，与后文“消除”对应更恰当，对比择优选择C项。

验证第三空，“汇集”与“凝聚”相比，“凝聚共识”为常见热词搭配，择优选择C项。

故正确答案为C。

29、第一空，根据“如同在坚壳上撬开了一条缝”说明弗洛伊德的心理疗法是一种全新的方式。A项“别具一格”比喻另有一种独特的风格，C项“异军突起”比喻另一种力量或派别卓然兴起，D项“独树一帜”比喻与众不同，自成一派，三项均可以表示弗洛伊德的心理疗法是与众不同的。而B项“蹈常习故”意思是按照老规矩和老办法办事，与文段意思相悖，排除。

第二空，搭配像妖烟一样袅袅而出的“梦境”，A项“冲动”多指做事鲁莽，不考虑后果，感情色彩偏消极，且不能搭配“梦境”，排除。C项“舞动”与D项“涌动”均搭配得当，保留。

第三空，根据空处前后文，说明“欲望、挫折等这些难以释放的生命不可承受之重”，只能通过梦来得到释放。D项“宣泄”指吐露、发泄，如宣泄胸中郁闷，符合文意，当选。C项“倾泻”指液体从高处倾倒或流泻下来，不符合文意，排除。

故正确答案为D。

30、本题可从第三空入手，第三空搭配“中华文脉”。D项“绵绵不绝”意为接连不断，置于此处可形容文化一直延续，和“中华文脉”搭配得当，当选。A项“挥之不去”意为某些事情已经发生过了但没有办法挽回，然而一直会在脑海中回想，怎么也忘不掉，一般搭配“烦恼”“印象”等，B项“络绎不绝”意为行人车马来来往往，接连不断，多搭配“人”“车”“马”等，C项“格古通今”意为研究探索古代事物，通晓当今事物，形容知识渊博，一般搭配人，故A、B、C项均与“中华文脉”搭配不当，排除。

第一、二空代入验证。“哺育·····巨人”与“放射·····奇光异彩”均搭配得当。

故正确答案为D。

31、此题为词句理解题。首先定位代词位置，“这样的关系”出现在尾句，指代对象应往尾句之前找。

文段开篇介绍中国的举国体制，说明其优势，接着阐明改革开放的功绩，然后重点关注指代词前的第三句话，这句话说明中国的发展有赖于国家、市场与社会这三者之间的互补关系，且尾句也表明“需各方共同努力”“需要国家社会进行帮扶”，故“这样的关系”指代的就国家、市场与社会建彼此互补、各尽其长的关系，对应D项。

A项“改革开放·····的再造”以及B项“秦汉以来·····相叠加”均不属于一种关系，故不是指代对象，排除；C项“国家对社会进行帮扶”属于指代词之后的内容，排除。

故正确答案为D。

32、文段开篇引出背景表明汉字的重要性，接着指出媒体因为质量审查的欠缺，助长了汉字不规范使用的风气这一问题。最后通过“对此，媒体要”引出对策，即媒体要做好自我规约。后文通过阐述媒体应发挥纠正不良现象的作用，不能对不规范熟视无睹，引导汉字规范使用等对前一句对策进行解释说明。故文段重点为对策本身，对应B项。

A项，“双刃剑”属于问题表述，偏离重点，文段旨在提出对策，排除；

C项，“风向标”“引领者”表述无中生有，排除；

D项，“中华民族文化自信”表述无中生有，排除。

故正确答案为B。

33、A项，“重要环节”对应文段“选择是编辑工作的重要环节·····”，表述正确，排除；

B项，“主要内容”对应文段“编辑是一门发现的艺术，在茫茫人海中发现好作者，在汗牛充栋的稿件中发现好作品，在众声喧哗中发现新的审美元素和新的思想火花，是编辑工作的主要内容”，表述正确，排除；

C项，“难易程度”，文段未提及，无中生有，当选；

D项，“重要意义”对应文段“编辑选择不仅影响作家队伍的构成，还会直接影响作品的品质和风格·····”，表述正确，排除。

本题为选非题，故正确答案为C。

34、文段前两句从钟表陈设数量和进贡数量两方面说明乾隆年间钟表数量之多，尾句从居住场所和度假场地等地点继续论述乾隆所到之处几乎必有钟表作为装点。故文段为并列结构，均围绕“钟表数量之多”进行阐述，对应A项。

B项，“产地”只涉及了“英国钟”，故“产地繁”表述片面，排除；

C项，“款式丰”，无中生有，排除；

D项，“来源广”无从体现，文段仅提到了一种来源——进贡，排除。

故正确答案为 A。

35、文段开篇通过“呼吁”提出对策，即“让锻炼成为治疗抑郁症的主要方法”，随后通过调查研究——“体育锻炼”的效果优于心理咨询或药物来论证首句对策，即锻炼对于治疗抑郁症的确有益。故文段为总分结构，首句内容为重点，对应 C 项。

A 项，“有氧运动”对应解释说明部分，且“锻炼”不止有氧运动，表述片面，排除；

B 项，仅提及“体育锻炼”，未提及另一核心话题“抑郁症”，排除；

D 项，“提高生活品质”，无中生有，排除。

故正确答案为 C。

36、本题为语句填空题，横线在结尾，且出现指代词“这个”，故应总结前文内容。文段开篇指出当前人工智能对知识的掌握程度高低难以被发现，人类专家的准确回答更显得弥足珍贵这一现状。随后面对当前人工智能技术的问题提出对策，强调人类的专业判断能力依然很重要。故横线处应对前文对策进行总结，强调“具备专业全局的人类”依然是必要的，对应 D 项。

A 项，重点强调“语言”，与文段重点话题“人类”不符，排除；

B 项，未提及“人类”的重要性，且表述与前文无关，排除；

C 项，重点落在“人工智能”，而非“人类”的重要性，偏离重点，排除。

故正确答案为 D。

37、本题为语句填空题，横线在中间，故所填句子应承上启下，把握前后文核心话题。横线前指出我国灾害思想文化源远流长，随后介绍在应对自然灾害的历史进程中，灾害文化的具体表现为“各种灾害祈祷和祭祀仪式”，最终想要达到“禳灾、祛灾目的”。横线后则着重介绍“灾害文化”体现国家治理能力，即人的力量。故横线处应一方面承接上文灾害文化的旨在“禳灾、祛灾”，另一方面要引出后文“国家治理能力”，即人的力量。对应 B 项“在振弥灾异的表象背后，则是集腋成裘、众志成城的精神力量”。

A 项，“减灾科技”无中生有，排除；

C 项，“历经磨难”无中生有，且未切中核心话题“灾害文化”，排除；

D 项，“农业生产”“减灾科技”前后文均未涉及，无中生有，排除。

故正确答案为 B。

38、对比②⑥两句，确定首句。②句通过下定义引出“类书”这一话题；⑥句指出日本与我国在隋唐时期交流密切。两句话题不一致，不好判断首句。

观察其他线索。③句指出“汉籍”传入日本；④句指出“类书”为汉籍东传的耀眼之星；⑤句介绍日本借鉴中国“类书”形成本国特点。按照日常逻辑顺序，应当先说③句“汉籍”传入日本，再说④句“类

书”为汉籍东传的耀眼之星，最后说⑤句日本借鉴中国“类书”形成本国特点。按照③④⑤的先后顺序，对应C项。

故正确答案为C。

39、对比①⑤两句，确定首句。①句分别介绍“有线耳机”和“无线耳机”的问题；⑤句介绍“无线耳机”的好处。不好判断首句。

观察其他线索。④句转折词“但”可找捆绑，④句介绍“无线耳机”相较“有线耳机”麻烦依然较多，故前文应介绍“有线耳机”的问题。A、B、C项为②④捆绑，②句介绍包里面的复杂度增添了一分，无法与④句构成转折，均排除。D项为③④捆绑，③句介绍“有线耳机”的问题，衔接恰当，当选。

故正确答案为D。

40、对比①②⑤三句，确定首句。①句指出强军胜战虽有规律，但人并非被动受规律支配；②句指出“规律”在军队建设和战争中的重要作用；⑤句介绍“世界军事史上”，威名赫赫的统帅和战将往往都在洞察和运用规律上强于对手。不好判断首句。

观察其他线索。⑦句中出现并列关联词“也”，⑦在介绍“蜚声中外的军事名著”揭示了战争规律，那么⑦句之前应该在介绍另一主体揭示规律。A项是⑤⑦相连，⑤句刚好在介绍威名赫赫的统帅和战将能够洞察和运用规律，捆绑恰当，当选。而B、C、D项均为②⑦相连，②句在介绍“众多的制胜规律……共同规制着战争的进程和结局”，与⑦句话题不一样，无法形成捆绑，均排除。

故正确答案为A。

41、根据追及公式： $s_{差} = v_{差} \times t_{追及时间}$ ，设甲的速度为每小时  $v$  千米，根据题意可得  $(12 - v) \times 2.5 = (15 - v) \times 1.5$ ，解得  $v = 7.5$  千米/小时。则乙、丙二人出发时，甲已经航行了  $(12 - 7.5) \times 2.5 = 11.25$  千米。

故正确答案为C。

42、根据题意，150天为连续某个月份第一天到某个月份的最后一天，150天只能拆成28天、31天、30天、31天、30天，故计划开始的月份为二月，排除C、D项。代入A项，第一日为周五， $\frac{150}{7} = 21 \dots 3$  天，即21个完整星期，余3天且为周五、六、日，满足题干要求。

故正确答案为A。

43、设该社区粗调查时有准备药品的老人与没有准备药品的老人人数分别为  $x, 6x$ ，根据题意可知，有准备药品的老人人数增加27人后，没有准备药品的老人人数相应减少27人，可得  $\frac{x+27}{6x-27} = \frac{13}{15}$ ，化简得

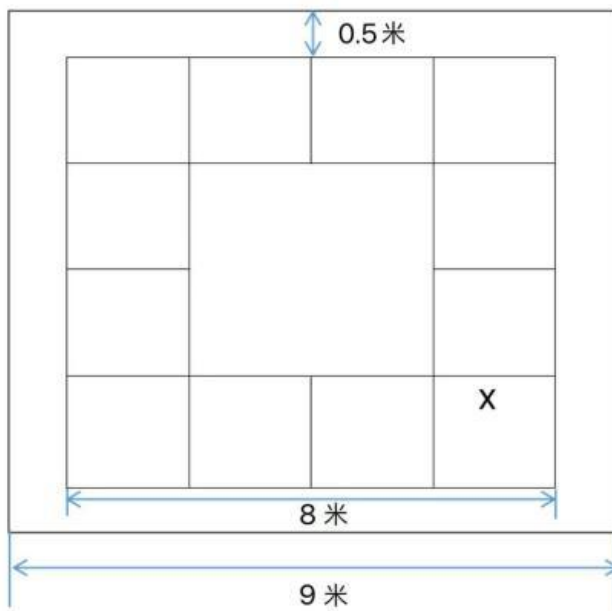
$15x+405=78x-351$ ，解得 $x=12$ ，则被调查的老人共有 $7x=7\times 12=84$ 人。

故正确答案为 B。

44、设第一、二种搭配方式分别搭配了 $x$ 、 $y$ 套，根据题意可得 $\begin{cases} 5x+8=7y \\ 2x=2y+12 \end{cases}$ ，化简可得 $x=25$ 、 $y=19$ ，则香菇的个数有 $7y=7\times 19=133$ 个。

故正确答案为 C。

45、如图所示，石子带外围为正方形，边长为 $\frac{36}{4}=9$ 米，空心正方形外围边长为 $9-0.5\times 2=8$ 米，则正方形绿植砖的边长为 $\frac{8}{4}=2$ 米，12块绿植砖的占地面积为 $12\times 2^2=48$ 平方米。



故正确答案为 C。

46、根据题干“2021年，全国规模以上工业企业实现利润总额”，结合材料时间为2022年，可判定本题为基期计算问题。定位材料第一段：2022年，全国规模以上工业企业实现利润总额84038.5亿元，比上年下降4.0%。根据公式：

$$\text{基期量} = \frac{\text{现期量}}{1 + \text{增长率}}$$
，可得2021年全国规模以上工业企业实现利润总额为：  

$$\frac{84038.5}{1-4\%} = \frac{84038.5}{0.96} \approx 87500$$
 亿元，大于87000亿元。

故正确答案为 D。

47、根据题干“2022年末……同比约”，结合选项为增长/下降+%，可判定本题为一般增长率问题。定位材料第九段，2022年末，规模以上工业企业每百元资产实现的营业收入为92.4元，比上年减少2.9元。

根据增长率  $\frac{\text{增长量}}{\text{现期量} - \text{增长量}}$ ，可得 2022 年末全国规模以上工业企业每百元资产实现的营业收入同比增速为  $\frac{-2.9}{92.4 - (-2.9)} = -\frac{2.9}{95.3} \approx -3\%$ ，即下降 3%。

故正确答案为 A。

备注：每百元资产实现的营业收入  $= \frac{\text{年营业收入}}{\text{平均资产}} \times 100$ ，平均资产  $= \frac{\text{期初资产} + \text{期末资产}}{2}$ ，材料中给出的资产总额为“2022 年末，规模以上工业企业资产总计 156.12 万亿元”，故不能使用该数据。

48、暂缺

49、横线处所求为 2022 年末规模以上工业企业资产负债率，可判定本题为现期比重问题。定位文字材料第六段，2022 年末，规模以上工业企业资产总计 156.12 万亿元，负债合计 88.30 万亿元，则规模以上工业企业资产负债率

$= \frac{\text{负债总额}}{\text{资产总额}} = \frac{88.30}{156.12} \approx \frac{88.3}{160} \approx 55\%$ ，与 C 项最接近。

故正确答案为 C。

50、①项：定位文字材料第九段，2022 年末，规模以上工业企业产成品存货周转天数为 17.6 天，比上年增加 0.9 天；应收账款平均回收期为 52.8 天，比上年增加 3.5 天。根据增长率  $\frac{\text{增长量}}{\text{现期量} - \text{增长量}}$ ，可得产品存货周转天数、应收账款平均回收期同比增长率分别为  $\frac{0.9}{17.6 - 0.9} = \frac{0.9}{16.7} \approx 5\%$ 、 $\frac{3.5}{52.8 - 3.5} = \frac{3.5}{49.3} \approx 7\%$ ，前者小于后者，错误；

②项：定位文字材料第三段，2022 年，采矿业实现利润总额 15573.6 亿元，比上年增长 48.6%；制造业实现利润总额 64150.2 亿元，下降 13.4%；电力、热力、燃气及水生产和供应业实现利润总额 4314.7 亿元，增长 41.8%。2022 年制造业、采矿业与电力、热力、燃气及水生产和供应业实现利润总额的同比变化量

分别为  $|\frac{64150.2}{1-13.4\%} \times (-13.4\%)| \approx \frac{64150.2}{1-\frac{1}{7.5}} \times \frac{1}{7.5} = \frac{64150.2}{6.5} \approx 9800$ 、 $|\frac{15573.6}{1+48.6\%} \times 48.6\%| \approx \frac{15573.6}{1+\frac{1}{2}} \times \frac{1}{2} = \frac{15573.6}{3} \approx 5200$ 、 $|\frac{4314.7}{1+41.8\%} \times 41.8\%| \approx \frac{4314.7}{1+\frac{1}{2.5}} \times \frac{1}{2.5} = \frac{4314.7}{3.5} \approx 1200$ 。则 2022 年制造业实现利润总额的同比变化量

( $\approx 9800$ ) 大于采矿业与电力、热力、燃气及水生产和供应业实现利润总额的同比变化量之和 ( $\approx 5200 + 1200 = 6400$ )，正确；

③项：定位文字材料第四段，2022 年，在 41 个工业大类行业中，21 个行业利润总额比上年增长，19 个行业下降，1 个行业由亏转盈。同比上涨的行业数量多于同比下降的行业数量，错误。

正确个数共 1 项。

故正确答案为 B。

51、根据题干“...与...的比值较上年”，结合选项提高/减少...。判定本题为两期比值计算问题。定位文字材料：“2021 年全国各地人民法院新收知识产权一审案件 57.7 万件，较上年增长 23.5%；

审结知识产权一审案件 54.1 万件，较上年增长 16.1%”。根据公式：两期比值差 
$$= \frac{A}{B} - \frac{A}{B} \times \frac{1+b}{1+a} = \frac{A}{B} \times \frac{a-b}{1+a}$$
，代入数据，可得题干所求 
$$= \frac{57.7}{54.1} \times \frac{23.5\% - 16.1\%}{1 + 23.5\%} \approx \frac{58}{54} \times \frac{0.074}{1.235} \approx 0.06$$
，因此所求为较上年约提高 0.06。

故正确答案为 A。

52、A 项：定位文字材料可知，2021 年全国市场监管部门共查处知识产权领域重法案件（会专利、商标、商业秘密、仿冒混淆）5.2274 万件，其中，查处专利违法案件 1.0 万件。其他种类案件数量的总和为  $5.2274 - 1.0 = 4.2274$  万件，包含专利违法案件数量，则专利违法案件数量 < 其他种类案件数量的总和，错误；

B 项：定位文字材料可知，查处商标违法案件 4.0 万件，侵犯商业秘密案件 50 件，所求为： 
$$\frac{40000}{50} = 800$$
，正确；

C 项：定位文字材料可知，专利违法案件数量同比增长 41.7%，侵犯商业秘密案件同比增长 72.4%， $41.7\% < 72.4\%$ ，正确；

D 项：定位文字材料可知仿冒混淆案件数量 2224 件，知识产权领域违法案件数量共 5.2274 万件，所求为： 
$$\frac{2224}{52274} \approx 4\%$$
，正确。

本题为选非题，故正确答案为 A。

53、根据题干“...较上年增加了...件”，可判定本题为增长量计算问题。定位表格材料可知，2021 年每万人口拥有的维持年限超过 10 年发明专利有效量为 32.3 万件，同比增长 27.7%。根据公式：增

长量 
$$= \frac{\text{现期量}}{1+r} \times r$$
，代入数据可得所求为： 
$$\frac{32.3 \times 10^4}{1 + 27.7\%} \times 27.7\% \approx \frac{323000}{1 + \frac{1}{3.61}} \times \frac{1}{3.61} = \frac{323000}{4.61} \approx 70065$$
 件。

故正确答案为 C。

54、根据题干“进口额与出口额之比的变化趋势...”，判定本题为比值比较问题。定位图形材料可知 2016 年-2021 年每年知识产权费用进口额与出口额，则每年出口额与进口额之比为：

2016 年： 
$$\frac{78}{1593} \approx 0.05$$
；

2017 年： 
$$\frac{322}{1930} \approx 0.17$$
；



2018年： $\frac{368}{2355} \approx 0.15$ 。

对比可得2017年-2018年的比值下降，只有A项满足。

故正确答案为A。

55、A项：定位文字材料可知，审结知识产权一审案件54.1万件，知识产权民事一审案件服判息诉率达到90.5%，则知识产权民事一审案件服判息诉的案件数量为 $54.1 \times 90.5\% \approx 48.96$ 万件，错误；

B项：定位文字材料可知，2021年我国知识产权系统共处理专利侵权纠纷行政裁决案件4.98万件，同比增长17.4%，根据公式：增长量 $=\frac{\text{现期量}}{1+r} \times r$ ，代入数据可知所求为： $\frac{4.98 \times 10^4}{1+17.4\%} \times 17.4\% = \frac{49800}{1+\frac{1}{5.7}} \times \frac{1}{5.7} = \frac{49800}{6.7} > 7000$ 件，错误；

C项：定位文字材料可知，2021年每万人口在海外有同族专利权发明专利为8.3万件，同比增长21.8%。根据公式：基期量 $=\frac{\text{现期量}}{1+r}$ ，代入数据可知所求为： $\frac{8.3}{1+21.8\%} = \frac{8.3}{1.218} < 7$ 万件，错误；

D项：定位图形材料可知，2021年我国知识产权使用费进口额为3021亿元，2020年为2596亿元，2019年为2372亿元，2018年为2355亿元。根据公式：增长率 $=\frac{\text{现期量}-\text{基期量}}{\text{基期量}}$ ，代入数据，可知2021年同比增速为： $\frac{3021-2596}{2596} = \frac{425}{2596} > 10\%$ ，2019年同比增速为： $\frac{2372-2355}{2355} = \frac{17}{2355} < 1\%$ ，所以2021年我国知识产权使用费进口额同比增速较2019年有明显上升，正确。

故正确答案为D。

56、元素组成不同，且无明显属性规律，考虑数量规律。观察发现，题干线条交叉明显，优先考虑数点，但整体数点无规律。进一步观察发现，每幅图中均既含有曲线又含有直线，且曲线与直线相交，考虑曲直交点。第一组图形中，曲直交点数依次为2、3、4，呈等差递增的规律，第二组图形中，曲直交点数依次为5、6，故？处应选择曲直交点数为7的图形，只有C项符合。

故正确答案为C。

57、元素种类不同，且无属性规律，考虑数量规律。观察发现，题干中出现黑球、白球，优先数黑球、白球的数量。黑球数依次为9、10、12、7、11、12，图①④⑤均为奇数个黑球，图②③⑥均为偶数个黑球，故图①④⑤为一组，图②③⑥为一组。

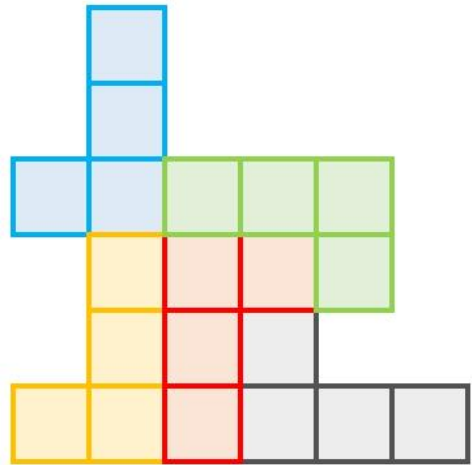
故正确答案为C。

58、元素组成相同，优先考虑位置规律。九宫格优先看横行，第一行中，每个元素依次顺时针平移一格，且三角形依次顺时针旋转 $90^\circ$ ，其余元素方向不变。第二行中，每个元素依次顺时针平移两格，且三角

形依次顺时针旋转 $90^\circ$ ，其余元素方向不变。第三行中，图 1 中每个元素顺时针平移三格，且三角形顺时针旋转 $90^\circ$ ，其余元素方向不变得到图 2，故？处应选择由图 2 按此规律得到的图形，只有 B 项符合。

故正确答案为 B。

59、如下图所示，根据题干图形左上角和右下角的特征，一定会用到图④，根据题干要求用最少种类



进行拼合，其余部分均用图④即可，故只需要 1 种俄罗斯方块。

故正确答案为 A。

60、元素组成相同，优先考虑位置规律。观察发现，图①④⑤可以由同一个相同图形旋转得到，图②③⑥可以由同一个相同图形旋转得到，故图①④⑤为一组，图②③⑥为一组。

故正确答案为 B。

61、第一步：找出定义关键词。

“熟练程度极高、遇到某种刺激不加思考就做出的习惯性动作”。

第二步：逐一分析选项。

①：锤子砸到手，立马甩手属于本能反应，不符合“熟练程度极高、遇到某种刺激不加思考就做出的习惯性动作”，不符合定义；

②：碰到不认识的单词属于遇到某种刺激，做个标记属于做出习惯性动作，符合“熟练程度极高、遇到某种刺激不加思考就做出的习惯性动作”，符合定义；

③：回到家想打游戏但并未打游戏，而是将工作完成，并没有不加思考做出习惯性动作，不符合“熟练程度极高、遇到某种刺激不加思考就做出的习惯性动作”，不符合定义。

属于优势反应的有 1 项。

故正确答案为 B。

62、第一步：找出定义关键词。

“通过各种载体流传下来的前人从事史学活动的总成果”、“包括各种历史现象的记载，史学家的研究方法、观点和成就，史学在各个时代的作用影响等”。

第二步：逐一分析选项。

A项：《史通》作为历史上第一部史学理论专著，符合“通过各种载体流传下来的前人从事史学活动的总成果”、“包括各种历史现象的记载，史学家的研究方法、观点和成就，史学在各个时代的作用影响等”，符合定义，排除；

B项：南宋袁枢撰《通鉴纪事本末》，首创纪事本末体，朱熹著《资治通鉴纲目》，开创纲目体，符合“通过各种载体流传下来的前人从事史学活动的总成果”、“包括各种历史现象的记载，史学家的研究方法、观点和成就，史学在各个时代的作用影响等”，符合定义，排除；

C项：黄宗羲等人的思想理论反映了清朝历史思想，符合“通过各种载体流传下来的前人从事史学活动的总成果”、“包括各种历史现象的记载，史学家的研究方法、观点和成就，史学在各个时代的作用影响等”，符合定义，排除；

D项：只阐述张骞出使西域这一行为的影响和意义，并未涉及关于史学活动方面的成果，不符合“通过各种载体流传下来的前人从事史学活动的总成果”，不符合定义，当选。

本题为选非题，故正确答案为D。

63、第一步：找出定义关键词。

鳄鱼法则：“遭受损失时应及时止损”；

鲛鱼法则：“引入适当竞争能够保持组织活力”。

第二步：逐一分析选项。

①：某大型国企招聘高管只是想引进新的管理理念，未涉及遭受损失，不符合“遭受损失时应及时止损”，不符合“鳄鱼法则”定义，也不符合“引入适当竞争能够保持组织活力”，不符合任何一个定义；

②：职工老李竞争失败辞职，未体现该单位对于老李来说是否是受损的环境，不符合“遭受损失时应及时止损”，不符合“鳄鱼法则”定义，也不符合“引入适当竞争能够保持组织活力”，不符合任何一个定义；

③：老王退休后把积蓄都投入股市，近期牛市，说明股市前景乐观，未涉及遭受损失，不符合“遭受损失时应及时止损”，不符合“鳄鱼法则”定义，也不符合“引入适当竞争能够保持组织活力”，不符合任何一个定义；

④：只阐述失主感谢老李的帮助，不符合“遭受损失时应及时止损”，不符合“鳄鱼法则”定义，也不符合“引入适当竞争能够保持组织活力”，不符合任何一个定义。

综上体现了鳄鱼法则定义的为 0 个。

故正确答案为 A。

64、第一步：找出定义关键词。

“用自己掌握的技能交换别人掌握的技能，各取所需”、“达到互相学习的目的，同时节省下高昂的培训费”。

第二步：逐一分析选项。

A 项：陈医生利用学习短视频制作，以便向更多的患者科普医学常识，未涉及交换别人掌握的技能，不符合“用自己掌握的技能交换别人掌握的技能，各取所需”、“达到互相学习的目的，同时节省下高昂的培训费”，不符合定义，排除；

B 项：王先生给陈小姐免费拍艺术照片，同时他要求陈小姐能免费教其女儿弹钢琴，但陈小姐是否会免费提供技能未知，且并不属于技能的交换，不符合“用自己掌握的技能交换别人掌握的技能，各取所需”、“达到互相学习的目的，同时节省下高昂的培训费”，不符合定义，排除；

C 项：大姐在向邻居免费学习烹饪，也向邻居传授了金融理财的专业知识，符合“用自己掌握的技能交换别人掌握的技能，各取所需”、“达到互相学习的目的，同时节省下高昂的培训费”，符合定义，当选；

D 项：小张购买了考研辅导资料分享给室友，未涉及交换别人掌握的技能，不符合“用自己掌握的技能交换别人掌握的技能，各取所需”、“达到互相学习的目的，同时节省下高昂的培训费”，不符合定义，排除。

故正确答案为 C。

65、第一步：找出定义关键词。

“汇编若干作品、作品的片段或者不构成作品的数据或者其他材料”、“对其内容的选择或者编排体现独创性的作品”、“汇编作品的构成成分既可以是受版权法保护的作品及片段，也可以是不受版权法保护的数据或者其他材料”。

第二步：逐一分析选项。

①：《古文观止》是清代吴楚材、吴调侯于康熙三十三年选定的古代散文选本，符合“汇编若干作品、作品的片段或者不构成作品的数据或者其他材料”、“对其内容的选择或者编排体现独创性的作品”，符合定义；

②：《南宋经典书画集锦》集合了南宋的书画作品，符合“汇编若干作品、作品的片段或者不构成作品的数据或者其他材料”、“对其内容的选择或者编排体现独创性的作品”，符合定义；

③：《现代汉语词典》集合了很多词语成语，符合“汇编若干作品、作品的片段或者不构成作品的数

据或者其他材料”、“对其内容的选择或者编排体现独创性的作品”，符合定义；

④：《优秀科幻文学作品集》，集合了很多科幻文学作品，符合“汇编若干作品、作品的片段或者不构成作品的数据或者其他材料”、“对其内容的选择或者编排体现独创性的作品”，符合定义。

综上属于汇编作品的有4个。

故正确答案为D。

66、第一步：找出定义关键词。

“人们往往会只因为一个错误和一件事情就去否定别人，哪怕这个人之前做得再好”、“人的缺点和错误总是容易被发现的，会被无限放大”。

第二步：逐一分析选项。

A项：对自己的错误感到自责，未涉及他人对自己的否定，不符合“人们往往会只因为一个错误和一件事情就去否定别人，哪怕这个人之前做得再好”、“人的缺点和错误总是容易被发现的，会被无限放大”，不符合定义，排除；

B项：老师认为他能取得好成绩，不是老师对他的否定，不符合“人们往往会只因为一个错误和一件事情就去否定别人，哪怕这个人之前做得再好”、“人的缺点和错误总是容易被发现的，会被无限放大”，不符合定义，排除；

C、D项缺失，无法解析。

故本题无法确认正确答案。

67、第一步：找出定义关键词。

之治：“国家发展初期，改朝换代的战争等导致社会生产力水平落后”、“经过一到两代帝王的励精图治，老百姓的温饱问题初步得到解决，国家积累了一定的财富，整个社会初步繁荣安定”；

盛世：“经过好几代帝王的励精图治”、“社会生产力发展达到了顶峰”、“老百姓生活相较于‘治世’时代更加富裕”；

中兴：“在国力下滑的过程中”、“如果开创盛世的帝王本人，或者后面的继承者改变政策，重新励精图治”、“在王朝发展的中后期就会出现国力‘反败为胜’的局面”。

第二步：逐一分析选项。

A项：汉文帝登基后，汉朝还没有从秦末农民战争的创伤中完全恢复过来，符合“国家发展初期，改朝换代的战争等导致社会生产力水平落后”，汉文帝继续施行刘邦-吕后时期一脉相承的休养生息国策，继续恢复和发展生产力，到汉景帝时，百姓无内外之徭，得息肩于田亩，天下殷富，符合“经过一到两代帝王的励精图治，老百姓的温饱问题初步得到解决，国家积累了一定的财富，整个社会初步繁荣安定”，符合

“之治”定义，不符合“中兴”定义，排除；

B项：汉武帝末年，由于长时期攻打匈奴和施行严刑峻法，阶级矛盾日益尖锐，农民起义不断，民怨沸腾，符合“在国力下滑的过程中”，汉武帝便下了罪己诏，宣布与民休息，后来经过汉昭帝和汉宣帝两代帝王的励精图治，西汉在汉宣帝时期国力重新恢复，符合“如果开创盛世的帝王本人，或者后面的继承者改变政策，重新励精图治”、“在王朝发展的中后期就会出现国力‘反败为胜’的局面”，符合“中兴”定义，当选；

C项：唐玄宗登基后，励精图治，让唐朝在各方面都达到了极高的水平，国力空前强盛，社会经济空前繁荣，人口大幅度增长，符合“经过好几代帝王的励精图治”、“社会生产力发展达到了顶峰”、“老百姓生活相较于‘治世’时代更加富裕”，符合“盛世”定义，不符合“中兴”定义，排除；

D项：北宋和辽缔结澶渊之盟，促进了宋辽之间的经济文化交流，不符合任何一个定义，排除。

故正确答案为B。

68、第一步：找出定义关键词。

节能减排：“采用高效节能技术、使用可再生能源、减少能源消耗和碳排放等方式”、“降低建筑的能源消耗和对环境的影响”；

资源节约：“采用环保材料，减少建筑物对土地、水资源和原材料的占用”、“优化设计等方式”、“最大限度地减少资源消耗和浪费”；

健康与舒适：“考虑建筑内部的空气质量、温湿度、采光等因素”、“为居住者提供健康、舒适的生活环境”；

社会责任：“考虑建筑的社会影响和对居住者的贡献”、“提高社会责任感和公共认知度”。

第二步：逐一分析选项。

A项：调控室内温度降低冬天供暖及夏天制冷所导致的能耗，符合“采用高效节能技术、使用可再生能源、减少能源消耗和碳排放等方式”、“降低建筑的能源消耗和对环境的影响”，符合“节能减排”定义，不符合“资源节约”定义，排除；

B项：乙医院充分利用每一个空间来创造绿色医疗环境。它的每一层楼都布满了绿色，使人放松和振作，符合“考虑建筑内部的空气质量、温湿度、采光等因素”、“为居住者提供健康、舒适的生活环境”，符合“健康与舒适”定义，不符合“资源节约”定义，排除；

C项：雨水系统，将场地内雨水引入下凹式绿地、屋顶花园及蓄水池等生态设施，供绿地浇洒、景观用水、车库及道路冲洗，符合“采用环保材料，减少建筑物对土地、水资源和原材料的占用”、“优化设计等方式”、“最大限度地减少资源消耗和浪费”，符合“资源节约”定义，当选；

D项：照地的建筑环境，充分尊重当地的习俗，充分尊重人文环境和自然环境的融合，使得丁博物馆成为当地的一个标志性建筑，符合“考虑建筑的社会影响和对居住者的贡献”、“提高社会责任感和公共认知度”，符合“社会责任”定义，不符合“资源节约”定义，排除。

故正确答案为C。

69、第一步：找出定义关键词。

自由贸易：“国家取消对进出口贸的针对性制和阻碍”、“取消对国家进出口商品的各种特权和优惠”、“商品在国内外市场上自由竞争”；

保护贸易：“国家采取各种措施干预对外贸易”、“保护本国市场免受外国商品的竞争”、“对本国出口商给予优惠或津贴，奖励出口的方式或活动”。

第二步：逐一分析选项。

A项：RCEP即区域全面经济伙伴关系协定，《区域全面经济伙伴关系协定》是一个在区域内的全面、现代、高质量、互利互惠的自贸协定，符合“国家取消对进出口贸的针对性制和阻碍”、“取消对国家进出口商品的各种特权和优惠”、“商品在国内外市场上自由竞争”，符合“自由贸易”定义，不符合“保护贸易”定义，排除；

B项：进口商品“免申报”“零关税”政策，符合“国家取消对进出口贸的针对性制和阻碍”、符合“商品在国内外市场上自由竞争”，符合“自由贸易”定义，不符合“保护贸易”定义，排除；

C项：乙国对进口的计算机产品征收的关税是本国的2倍，符合“国家采取各种措施干预对外贸易”、“保护本国市场免受外国商品的竞争”，符合“保护贸易”定义，当选；

D项：取消戊国农产品进入丁国的市场限制并给予最惠国待遇，符合“国家取消对进出口贸的针对性制和阻碍”，但不符合“取消对国家进出口商品的各种特权和优惠”，不符合任何一个定义，排除。

故正确答案为C。

70、第一步：找出定义关键词。

形象记忆：“对感知过的事物具体形象的记忆”；

逻辑记忆：“对概念、公式、规律等逻辑思维过程为内容的记忆”；

情绪记忆：“对自己体验过的情绪和情感的记忆”

动作记忆：“对身体运动状态和动作技能的记忆”。

第二步：逐一分析选项。

A项：余音绕梁三日不绝于耳是对声音的记忆，属于自己感知过的事物，符合“对感知过的事物具体形象的记忆”，符合形象记忆，说法正确，排除；

B项：质量守恒定律的定义是一种概念，符合“对概念、公式、规律等逻辑思维过程为内容的记忆”，符合逻辑记忆，说法正确，排除；

C项：记录参加科学营的开心经历，符合“对自己体验过的情绪和情感的记忆”，不符合“对概念、公式、规律等逻辑思维过程为内容的记忆”，符合情绪记忆，不符合逻辑记忆，说法错误，当选；

D项：对拳术一招一式的记忆，符合“对身体运动状态和动作技能的记忆”，符合动作记忆，说法正确，排除。

本题为选非题，故正确答案为C。

71、第一步：判断题干词语间逻辑关系。

滤芯是净水器的组成部分。二者为组成关系。

第二步：判断选项词语间逻辑关系。

A项：商人与社会之间无明显逻辑关系，与题干逻辑关系不一致，排除；

B项：在医院进行手术，二者为行为与地点的对应关系，与题干逻辑关系不一致，排除；

C项：发动机是汽车的组成部分，二者为组成关系，与题干逻辑关系一致，当选；

D项：古迹，是指先民在历史、文化、建筑、艺术上的具体遗产或遗址，即古迹是遗产，二者为种属关系，与题干逻辑关系不一致，排除。

故正确答案为C。

72、第一步：判断题干词语间逻辑关系。

水钟和沙漏都是计时仪器，二者为功能相同的并列关系。

第二步：判断选项词语间逻辑关系。

A项：饭盒可以放在冰箱里，二者为位置对应的关系，与题干逻辑关系不一致，排除；

B项：雨伞与眼镜间无明显逻辑关系，与题干逻辑关系不一致，排除；

C项：颜料是制作油画的原材料，二者为原材料的对应关系，与题干逻辑关系不一致，排除；

D项：狼烟和信号灯都是传递信息的工具，二者为功能相同的并列关系，与题干逻辑关系一致，当选。

故正确答案为D。

73、第一步：判断题干词语间逻辑关系。

违规执业导致受到行政处罚，二者为因果的对应关系。

第二步：判断选项词语间逻辑关系。

A项：治疗疾病不是测量血压的结果，与题干逻辑关系不一致，排除；

B项：乱砍滥伐导致水土流失，二者为因果的对应关系，但两词顺序与题干相反，与题干逻辑关系不一



致，排除；

C项：因为见义勇为所以受到交口称赞，二者为因果的对应关系，与题干逻辑关系一致，当选；

D项：商品滞销导致工厂倒闭，二者为因果的对应关系，但两词顺序与题干相反，与题干逻辑关系不一致，排除。

故正确答案为C。

74、第一步：判断题干词语间逻辑关系。

智能窗帘是智能家居，二者为种属关系；智能门锁是智能家居，二者为种属关系；智能窗帘与智能门锁，二者为并列关系。

第二步：判断选项词语间逻辑关系。

A项：图形、文字与表格是三种不同的内容呈现形式，三者为并列关系，与题干逻辑关系不一致，排除；

B项：扎染是中国民间传统的染色工艺，刺绣是中国民间传统手工艺，印花是用染料或颜料在纺织物上施印花纹的工艺过程，三者为并列关系，与题干逻辑关系不一致，排除；

C项：北冰洋与太平洋、印度洋、大西洋并称四大洋，三者为并列关系，与题干逻辑关系不一致，排除；

D项：人类是脊椎动物，二者为种属关系；鳄鱼是脊椎动物，二者为种属关系；人类与鳄鱼，二者为并列关系，与题干逻辑关系一致，当选。

故正确答案为D。

75、第一步：判断题干词语间逻辑关系。

孙武被尊称为兵圣，二者为全同关系；孙武是成语三令五申涉及到的主人公，二者为历史人物与汉语成语的对应关系。

第二步：判断选项词语间逻辑关系。

A项：孟子被尊称为亚圣，二者为全同关系；但成语韦编三绝的主人公是孔子，与题干逻辑关系不一致，排除；

B项：顾恺之被尊称为画祖而非画圣，二者不是全同关系，与题干逻辑关系不一致，排除；

C项：商圣是范蠡，而不是吕不韦，与题干逻辑关系不一致，排除；

D项：关羽被尊称为武圣，二者为全同关系；关羽是成语绝伦逸群涉及到的主人公，二者为历史人物与汉语成语的对应关系。

故正确答案为D。

76、第一步：判断题干词语间逻辑关系。

战士瞄准、战士射箭，前两个词与战士均为主谓关系，且瞄准是射箭的一个步骤。

第二步：判断选项词语间逻辑关系。

A项：授课是一种教学形式，不是教学的一个步骤，与题干逻辑关系不一致，排除；

B项：厨师调味、厨师烹饪，前两个词与厨师均为主谓关系，且调味是烹饪的一个步骤，与题干逻辑关系一致，当选；

C项：工人组装零件，三者为主谓宾的语法关系，与题干逻辑关系不一致，排除；

D项：教授发布论文，三者为主谓宾的语法关系，与题干逻辑关系不一致，排除。

故正确答案为B。

77、逐一代入选项。

A项：鸽子树象征着和平，二者为比喻象征关系，牡丹象征着富贵，二者为比喻象征关系，但前后两组词顺序相反，前后逻辑关系不一致，排除；

B项：珙桐俗称鸽子树，二者为全同关系，牡丹俗称富贵花，二者为全同关系，前后逻辑关系一致，当选；

C项：鸽子树的叶状苞片是白色的，二者为植物与颜色的对应关系，牡丹颜色各异，红色只是其中一种颜色，二者为植物与颜色的对应关系，但前后两组词顺序相反，前后逻辑关系不一致，排除；

D项：鸽子树没有花瓣，二者无明显逻辑关系，牡丹的花瓣形态各异，重瓣只是其中一种形态，二者为植物与花瓣形态的对应关系，前后逻辑关系不一致，排除。

故正确答案为B。

78、逐一代入选项。

A项：阳春白雪比喻高深的不通俗的文学艺术，与报恩没有明显的逻辑关系，高山流水比喻知己或知音，也比喻乐曲高妙，与恩爱没有明显的逻辑关系，前后逻辑关系不一致，排除；

B项：结草衔环比喻受人恩惠，定当厚报，生死不忘，与报恩为近义关系，高山流水比喻知己或知音，也比喻乐曲高妙，与知音为近义关系，前后逻辑关系一致，当选；

C项：五体投地比喻佩服到了极点，与报恩没有明显的逻辑关系，高山流水比喻知己或知音，也比喻乐曲高妙，与忠诚没有明显的逻辑关系，前后逻辑关系不一致，排除；

D项：鞠躬尽瘁指不辞辛劳，恭敬谨慎，竭尽心力，与报恩没有明显的逻辑关系，高山流水比喻知己或知音，也比喻乐曲高妙，与休闲没有明显的逻辑关系，前后逻辑关系不一致，排除。

故正确答案为B。

79、逐一代入选项。

A项：“祥鸡瑞凤临宝地”和“紫气金光绕福门”是一副对联，二者为上下联的对应关系，“和顺一门

有百福”和“平安二字值千金”是一副对联，二者为上下联的对应关系，前后逻辑关系一致，当选；

B项：“祥鸡瑞凤临宝地”和“一年四季春常在”没有形成对偶，二者不是上下联的对应关系，“和顺一门有百福”和“平安二字值千金”是一副对联，二者为上下联的对应关系，前后逻辑关系不一致，排除；

C项：“祥鸡瑞凤临宝地”和“紫气金光绕福门”是一副对联，二者为上下联的对应关系，“万紫千红花永开”和“平安二字值千金”没有形成对偶，二者不是上下联的对应关系，前后逻辑关系不一致，排除；

D项：“祥鸡瑞凤临宝地”和“一年四季春常在”没有形成对偶，二者不是上下联的对应关系，“万紫千红花永开”和“平安二字值千金”没有形成对偶，二者不是上下联的对应关系，前后逻辑关系不一致，排除。

故正确答案为A。

80、第一步：判断题干词语间逻辑关系。

①②③是三个独立的集合且范围大小一致，三者为反对关系。

第二步：判断选项词语间逻辑关系。

A项：键盘是计算机的组成部分，①和③为组成关系，与题干逻辑关系不一致，排除；

B项：公司是企业的一种组织形式，属于以营利为目的的企业法人，因此②和③为对应关系，与题干逻辑关系不一致，排除；

C项：采矿业、制造业和建筑业，是三种不同的产业，三者为反对关系，与题干逻辑关系一致，当选；

D项：研究生分为硕士研究生及博士研究生，因此②和③为种属关系，与题干逻辑关系不一致，排除。

故正确答案为C。

81、第一步：找出题干矛盾。

为减少交通违法行为，该国出台了更严格的交规，但此交规出台后，违法行为并没有得到有效遏制。

第二步：逐一分析选项。

A项：选项说明闯红灯是交通违法行为，没有说明出台更严格的交规后违法行为没有得到有效遏制的原因，不能解释题干矛盾，排除；

B项：选项说明大部分人的出行方式是骑电动车，没有说明出台更严格的交规后违法行为没有得到有效遏制的原因，不能解释题干矛盾，排除；

C项：选项说明抓拍设备灵敏度不够高，意味着可能存在违法行为未被发现的情况，因此即便出台了更严格的交规，也无法有效遏制违法行为，可以解释题干矛盾，保留；

D项：选项说明交规无法改变“违法性格”，因此即便出台了更严格的交规，也无法有效遏制违法行为，可以解释题干矛盾，保留。

对比 C、D 项，C 项设备不灵敏只能说明部分违法行为处罚可能没有落实到位，而 D 说的是交规整体对违法行为没有作用，所以 D 项解释力度最强。

故正确答案为 D。

82、第一步：找出论点和论据。

论点：消费借贷的信息呈现方式是影响受访者决定的主要因素。

论据：当受访者只看到每个月的利息数额时，他们为消费透支或借贷的意愿会比较强烈；而当研究人员向他们展示相关借贷可能带来的年度成本时，受访者的借贷意愿会减弱。

第二步：逐一分析选项。

A 项：该项说明增强相关信息透明度比提升债务人的金融知识水平，更能左右债务人对借贷的决定，与消费借贷的信息呈现方式无关，为无关项，排除；

B 项：该项说明缺乏信息透明度会影响金融机构间的公平竞争和金融业创新，与消费借贷的信息呈现方式无关，为无关项，排除；

C 项：该项说明无论是使用支票账户的透支功能还是消费贷，利率的差异都不影响还贷成本，与受访者的决定因素无关，为无关项，排除；

D 项：该项说明金融知识水平的提升，会影响其借贷意愿，提出了另外一个影响受访者借贷意愿的因素，为他因削弱，当选。

故正确答案为 D。

83、第一步：找出论点和论据。

论点：可以通过机器学习算法来获取数据。

论据：无。

第二步：逐一分析选项。

A 项：该项说明机器学习算法的特点是能自动解决大型线性问题，不需要人工干预，但无法得知能否通过机器学习算法来获取有关粮食安全的数据，为无关项，不能加强，排除；

B 项：该项说明机器学习算法可以根据影响粮食生产的主要因素进行预测，且预测准确度较高，说明可以通过机器学习算法来获取有关粮食安全的数据，为加强项，当选；

C 项：该项说明机器学习算法（缺失信息），无法得知能否通过机器学习算法来获取有关粮食安全的数据，为无关项，不能加强，排除；

D 项：该项说明威胁粮食安全的因素从未消失，无法得知能否通过机器学习算法来获取有关粮食安全的数据，为无关项，不能加强，排除。

故正确答案为 B。

84、第一步：找出论点和论据。

论点：亲戚关系的淡化并不必然意味着亲缘关系网络的瓦解。

论据：无。

第二步：逐一分析选项。

A 项：该项说明亲缘的联结在未来可能有不同的形式，但人情基底还会长于中国社会文化之中，说明亲戚关系的淡化并不意味着亲缘关系网络的瓦解，为加强项，排除；

B 项：该项说明互联网深刻改变了人类交往方式和生活方式，年轻人可以通过网络寻找到志趣相投的心理群体获得情感支持，无法推出亲戚关系的淡化是否会导致亲缘关系网络瓦解，为无关项，当选；

C 项：该项说明中国的社会行为规范之中，人情文化仍有相当的影响力，说明亲戚关系的淡化并不意味着亲缘关系网络的瓦解，为加强项，排除；

D 项：该项说明年轻人在组建了自己的家庭、有了自己的子女之后，对于亲缘牵绊会有更深的感悟，说明亲戚关系的淡化并不意味着亲缘关系网络的瓦解，为加强项，排除。

本题为选非题，故正确答案为 B。

85、第一步：翻译题干。

①引进高层次科研人才且投入充足的科研经费→研究院的科研实力得到显著提升；

②引进到高层次科研人才→对现行的科研人才晋升制度进行改革；

③¬某研究院科研实力得到显著提升。

第二步：分析题干信息。

③是对①的否后，否后必否前，可推出④：¬（引进高层次科研人才且投入充足的科研经费）=¬引进高层次科研人才或¬投入充足的科研经费，或关系有三种情况，无法确定是否引进到高层次科研人才，因而无法判断是否对现行的科研人才晋升制度进行改革，A、B 项无法判断真假，排除；C 项只满足或关系的其中一种情况，无法判断真假，排除；D 项翻译为：¬引进高层次科研人才或¬投入充足的科研经费，符合题干要求，D 项为真。

故正确答案为 D。

86、第一步：翻译题干。

进行工程隐蔽或下道工序的施工→经项目监理机构进行检查验收。

第二步：逐一分析选项。

A 项：翻译为：经过项目监理机构的检查验收→进行工程隐蔽或下道工序的施工，是对题干的肯后，肯

后得不出确定结论，当选；

B项：翻译为：进行工程隐蔽或下道工序施工→经过项目监理机构的检查验收，是对题干的肯前，肯前必肯后，排除；

C项：翻译为：进行工程隐蔽或下道工序的施工→经过项目监理机构检查验收，是对题干的肯前，肯前必肯后，排除；

D项：翻译为：进行工程隐蔽或下道工序的施工→经过项目监理机构检查验收，是对题干的肯前，肯前必肯后，排除。

本题为选非题，故正确答案为A。

87、根据题干给出信息进行推理，根据最大信息法，进度汇报出现次数最多。由①②④可知，陈、王、张不负责进度汇报，因此做进度汇报的一定是李，结合条件⑤否后必否前，可知王负责整理资料，又根据④张不负责组成文稿，可排除A、C、D项。

故正确答案为B。

88、第一步：翻译题干。

①¬乙“旦”→甲“生”

②丙“生”或甲“生”

③¬丁“净”→¬乙“旦”

④¬甲“丑”或丁“净”

第二步：根据题干条件分析选项。

题干只有②与丙“生”有关，若要得出丙工“生”的结论，根据或关系否一推一的规则，必须保证甲不工“生”，又因为每位只工四种行当中的一种，故只有C项符合。

故正确答案为C。

89、第一步：找出论点和论据。

论点：人吃饱之后，倾向于变得更保守、更不愿冒险。

论据：进食后，随着体内控制食欲的激素水平发生变化，食欲降低，财务方面的风险偏好也相应降低了。

论点论据都是讨论吃饱饭与风险偏好的关系，话题一致，加强考虑补充论据。

第二步：逐一分析选项。

A项：该项说明选取女性为实验对象存在的问题，但本次实验中选取的对象为男性，主体不一致，无法加强，排除；

B项：该项说明研究人员是通过测量志愿者体内的激素分泌情况而不是通过口头询问来判断饥饿对人的影响，排除了个人主观因素对实验结果的影响，增强了实验结论的真实性，补充了论据，能够加强，当选；

C项：该项说明有的志愿者不喜欢吃这些“统一的食物”，但是不得不吃，说的是志愿者对饮食的喜好，与论点中讨论的人吃饱之后，是否会变得更保守、更不愿冒险话题不一致，无法加强，排除；

D项：该项说明摄入食物后，食物会转变为脂肪，进而为机体提供能量，与论点中讨论的人吃饱之后，是否会变得更保守、更不愿冒险话题不一致，无法加强，排除。

故正确答案为B。

90、日常结论题，根据题干信息逐一分析选项。

A项：材料指出甲团队的研究结论为：人们吃饱之后，倾向于变得更保守、更不愿冒险，即：饥饿时冒险，吃饱时保守，可以推出志愿者在吃饭前比吃饭后更倾向于做出冒险决定，因此A项可以推出，排除；

B项：题干指出乙团队的研究结论为：人们在饥饿状态下更倾向于得出和自己喜好、性格相反的决策，即：饥饿时与性格相反，吃饱时与性格相符。小明是个稳妥的人，总是不相信自己的判断是否正确，那么就可以在吃饱后再作决定，这样会做出的决定会更加符合他本人的稳妥性格，因此B项可以推出，排除；

C项：题干未涉及乙研究团队志愿者具体的性格特征，即可能其中有性格保守的人和性格激进的人，因此C项可以推出，排除；

D项：题干指出乙团队的研究结论为：人们在饥饿状态下更倾向于得出和自己喜好、性格相反的决策，即：饥饿时与性格相反，吃饱时与性格相符。小华害怕坐过山车，但他却和朋友游玩时去坐了过山车，做出了与原来喜好相反的决定，此时他应该是饥饿的状态，因此D项一定为假，当选。

本题为选非题，故正确答案为D。

91、根据横线前“这一制度起源很早”可知，横线处所填词语应体现历史悠久之意。A项“源远流长”指历史悠久，根底深厚，符合文意，当选；B项“代代相传”指一代一代的传承下来。文段并未体现一代代往下传递，不符合文意，排除；C项“历久弥新”指一样东西不因时间而变旧，变腐，反而更加有活力，更显价值，比新的还要好，与文意无关，排除；D项“积厚流光”指功业深厚，则流传给后人的恩德广远，与文意无关，排除。

故正确答案为A。

92、A项，根据第2自然段“‘物勒工名’制度出现在春秋战国时期”可知，表述正确，排除；

B项，根据第4自然段“汉承秦制，‘物勒工名’制度的实施日臻完备，其显著标志是，这一制度已深入到官营手工业的各个方面，目前在一些铜器、漆器、铁器、骨签等出土文物上均发现有铭文，而且铭刻内容较为丰富”可知，表述正确，排除；

C项，根据第3自然段“‘物勒工名’制度在秦朝就以法定的形式固定下来”可知，表述正确，排除；

D项，根据第6自然段“明清时期是中国封建专制制度发展的高峰……‘勒名’制度也更为规范、具体……”可知，选项表述偷换主体，且表述绝对，当选。

本题为选非题，故正确答案为D。

93、该句含义为车轮圆不圆，辐与牙相交处是不是直角，上下车辐是否成一条直线，两个轮子沉入水中的深度是否相等都认真对待，一丝不苟。故此句与我国工匠精神中做到最好、追求完美、精益求精的态度相符，对应C项。

A项“创新”、D项“守信”均与该句含义无关，排除；

B项“敬业”强调对工作的责任感，与文中追求完美，力求最好不符，排除。

故正确答案为C。

94、A项根据第9自然段“社会分工的需要”可知，属于原因之一，排除；

C项根据第8自然段“提升产品质量的要求”可知，属于原因之一，排除；

D项根据第10自然段“商品经济发展的推动”可知，属于原因之一，排除。

B项“专制主义中央集权的加强”，对应第6自然段“明清时期是中国封建专制制度发展的高峰，政府对手工业尤其是官营手工业的管理自然更加严格，‘勒名’制度也更为规范、具体”，不属于“物勒工名”制度产生并长期延续的原因，当选。

本题为选非题，故正确答案为B。

95、文段开篇通过下定义引出“物勒工名”这一话题，随后通过时间顺序介绍“物勒工名制度”的演变发展历程，接着指出该制度延续时间久远的原因，最后强调物勒工名制度对传统工匠精神的形成和传承有着重要的推动作用。故文章为分总结构，强调“物勒工名制度与传统工匠精神”之间的关系，对应C项。

A项，“起源”对应首段，为引出话题部分，非重点，排除；

B项，“存在的不足”，无中生有，排除；

D项，未提及另一核心话题“传统工匠精神”，排除。

故正确答案为C。

96、暂缺

97、A项，依据第3段“《水浒传》这样的书是否‘诲淫诲盗’，其背后是一个阅读观的问题”“在这种机械的阅读观下，阅读会是一件极为可怕的事”，及第4段“《水浒传》中这些道德上不完美的人物们的故事，阅读它，反而有助于人的心智成长”可知，对《水浒传》评价的不同来源于阅读观的不尽相同，且机械阅读观带来消极结果，反之正确的阅读观会带给读者收获，选项表述正确，排除；



B项，依据第4段“还可以在和作者叙述立场的分歧中，了解古今价值观的异同，批判性地看待书本”可知，立场的分歧可培养读者的批判性思维，选项表述正确，排除；

C项，依据第5段“如果认为阅读了名家好书，就能让读者从此脱胎换骨，这也是夸大了阅读的教育功效——它并没有那么神奇”可知，“脱胎换骨”是夸大了阅读的教育功效，选项与文段表述相悖，当选；

D项，依据第5段“如果认为阅读了名家好书，就能让读者从此脱胎换骨，这也是夸大了阅读的教育功效——它并没有那么神奇”，可知阅读的教育功能是有限的，不应被神化，选项表述正确，排除。

本题为选非题，故正确答案为C。

98、A项，依据第5段“初中生若有学力出众者，打算利用此书，结合课堂、课余读过的经典名篇，进一步了解经典原书，尚且可取”可知，阅读可帮助读者进一步了解经典，实现经典的传承，文段提及，排除；

B项，依据第4段“亚里士多德关于悲剧的‘净化’理论认为，悲剧可以唤起人们怜悯、恐惧等情感，被唤起的情感得以净化，让人们对于美德产生新的体验”可知，阅读可使人的情感得以净化，文段提及，排除；

C项，依据第6段“一项英国萨塞克斯大学‘心智实验室’的研究表明，阅读6分钟，就可以使压力水平降低68%，这种效果比听音乐、喝茶或咖啡、散步都更加显著”可知，阅读可减轻人的压力，文段提及，排除；

D项，“结识朋友”文段并未提及，无中生有，当选。

本题为选非题，故正确答案为D。

99、依据第3段“假如一个人读的书里有什么样的人，他就会变成什么样，那么书本中对不道德行为的描述，必定会将读者变得不道德——在这种机械的阅读观下，阅读会是一件极为可怕的事”可知，“机械阅读观”指书中描述什么，读者便会受到影响，成为书中描述的人，故对应B项。

A项“道德训诫功能”、C项“情绪体验必然是积极的”及D项“与之知识层次匹配的书籍”均不符合“机械阅读观”的定性，表述错误，排除。

故正确答案为B。

100、篇章第1段以《水浒传》被举报事件引发关于经典阅读的大讨论，第2、3、4自然段表明对虚构文学作品“诲淫诲盗”的道德审判庭的背后，体现着“阅读观”的问题，并强调机械的阅读观会引发严重后果，而正确的阅读观有能带给读者心智的成长。第5、6段具体介绍如何摆脱“误读”，树立正确的“阅读观”还需要避免对阅读的神话，认清阅读有限的教育功能，要学会以放松身心为目的去阅读。第7段呼应前文，再次强调以正确的“阅读观”会带给青少年宝贵的体验。故文段整体围绕“阅读观”来论述，重

在强调需建立正确的“阅读观”，摆脱错误观念，避免“误读”，对应 A 项。

B 项，“读本选择”即对于读物的选择，而文段重在强调树立正确的“阅读观念”，摆脱错误观念，选项脱离核心话题，排除；

C 项，“教育功效不应被夸大”仅对应第 6 段，无法概括全文，且表述不明确，排除；

D 项，“道德审判”仅对应第 2、3 段，且选项脱离核心话题，应树立正确的“阅读观”，排除。

故正确答案为 A。